



PENILAIAN AKHIR SEMESTER GANJIL
SDN SUMUR BATU 12 PAGI
TAHUN PELAJARAN 2021 / 2022



Tema : V PAHLAWANKU
Hari / Tanggal :

Nama :
Kelas : IV (Empat)

I. Pilihlah jawaban yang benar dengan menuliskan huruf a,b, c atau d pada kotak jawaban yang tersedia!

PKN

1. Menghargai pendapat orang lain merupakan sikap yang sesuai makna sila keempat Pancasila, yaitu
 - A. mendahulukan kepentingan dan tujuan bersama
 - B. cinta permusyawaratan dan demokrasi
 - C. bijaksana dalam menyelesaikan masalah
 - D. menegakkan kebenaran dan keadilan
2. Salah satu kegiatan menghargai jasa pahlawan pada masa kini adalah
 - A. belanja di pasar
 - B. menabung di Bank
 - C. upacara bendera
 - D. berolahraga secara teratur

3. Perhatikan gambar disamping!

Gambar di samping merupakan simbol sila ke

- A. satu
- B. dua
- C. tiga
- D. Empat



4. Mendahulukan kepentingan dan tujuan bersama, cinta permusyawaratan dan demokrasi, serta bijak menyelesaikan masalah merupakan makna dari sila
 - A. Empat
 - B. kedua
 - C. ketiga
 - D. kesatu

5. Gambar disamping merupakan pengamalan sila ke pancasila

- A. 1
- B. 2
- C. 3
- D. 4



6. Berikut ini yang merupakan contoh sikap adil dalam kehidupan sehari-hari adalah

- A. bermain tanpa mengenal waktu
- B. belajar dengan sungguh-sungguh
- C. menghormati hak milik orang lain
- D. berlaku adil terhadap semua teman

7. Salah satu sikap kepahlawanan yang patut dicontoh adalah cinta tanah air dan bangsa. Sikap tersebut sesuai dengan sila Pancasila.

- A. kedua
- B. ketiga
- C. keempat
- D. kelima

8. Sikap yang bisa teladani dari Raja Balapradewa adalah

- A. berputus asa
- B. pantang menyerah

- C. memertungkan diri sendiri
D. percaya diri
9. Sikap yang patut diteladani dari Pangeran Diponegoro adalah
A. ksatria dan rela berkorban
B. pasrah pada keadaan
C. berputus asa
D. berkorban untuk keluarga
10. Tidak bergaya hidup boros, dan suka bekerja keras, adalah pengamalan sikap dari sila
A. Ketuhan Yang Maha Esa
B. Kemanusiaan yang adil dan beradab
C. Keadilan Sosial bagi Seluruh Rakyat Indonesia
D. Kerakyatan yang dipimpin oleh hikmat kebijaksanaan dalam permusyawaratan perwakilan

BAHASA INDONESIA

Bacaan untuk soal nomor 9 sampai nomor 12.

Pangeran Antasari merupakan pahlawan nasional dari Banjarmasin, Kalimantan Selatan. Beliau wafat setelah bertahun – tahun berjuang di tengah rakyat melawan Belanda. Peperangan yang terus menerus berkecamuk di bawah pimpinan Pangeran Antasari dengan dibantu panglima dan pengikut setianya menyerang pos Belanda di Martapura, Hulu Sungai, Riam Kanan, Tanah Laut, Tabalong, sepanjang Sungai Barito sampai ke Puruk Cahu. Akan tetapi kisah perjuangan sang sultan harus terhenti. Pangeran Antasari wafat terkena sakit paru – paru dan cacar yang dideritanya setelah terjadi pertempuran di bawah kaki Bukit Bagantung.

11. Berikut ini pos Belanda yang diserang oleh Pangeran Antasari dan panglima serta pengikut yang setia kecuali daerah
A. Martapura
B. Hulu Sungai
C. Riam Kanan
D. Tanah Datar
12. Di bawah ini bukanlah sikap yang dimiliki oleh Pangeran Antasari yang terdapat dalam bacaan yaitu
A. teguh pendirian
B. pantang menyerah
C. berani
D. mudah terbujuk Belanda
13. Mulawarman merupakan raja di Kerajaan Kutai, kerajaan Hindu tertua di Nusantara. Mulawarman dianggap raja terbesar Kerajaan Kutai karena di bawah pemerintahannya, Kerajaan Kutai mencapai puncak kejayaannya. Kerajaan Kutai berkembang pesat. Hampir seluruh Kalimantan berhasil ditaklukkan. Hal tersebut diimbangi pula dengan kehidupan rakyatnya yang makmur dan sejahtera. Rakyat hidup tentram di bawah kekuasaan Raja Mulawarman yang tegas dan bijaksana. Raja Mulawarman juga terkenal sebagai raja yang sangat Dermawan. Beliau pernah menyumbangkan 20.000 ekor sapi untuk kaum Brahmana. Beliau juga pernah membagikan minyak dan emas kepada rakyatnya. Kebajikan raja Mulawarman membuatnya begitu dicintai oleh rakyatnya. Kebesaran raja Mulawarman banyak diabadikan dalam yupa oleh rakyatnya.

Pertanyaan yang tidak sesuai dengan informasi yang disajikan pada teks di atas adalah . .

- a. Siapa nama raja di Kerajaan Kutai?
b. Bagaimana sifat raja Mulawarman?
c. Berapa jumlah sapi yang disumbangkan oleh raja Mulawarman?
d. Mengapa raja Mulawarman pergi dari Kalimantan?

14. Pernyataan yang sesuai untuk menjawab kata tanya "Bagaimana" ditunjukkan oleh
- A. Dalam menjalankan pemerintahan Hayam Wuruk didampingi patihnya yang bernama Gajah Mada
 - B. Selama Hayam Wuruk memimpin, kerajaan Majapahit mencapai masa kejayaannya
 - C. Kerajaan Majapahit mengalami kejayaan dikarenakan Hayam Wuruk mengatur ketertiban dan kerukunan beragama serta menerapkan peraturan yang berlaku di kerajaan
 - D. Hayam Wuruk adalah raja Majapahit yang terkenal
15. Raja Balaputradewa mencapai kejayaan pada masa abad ke 8 sampai 9 masehi. Pokok informasi yang terdapat pada kalimat tersebut adalah
- A. Tokoh yang dibicarakan
 - B. Tempat terjadinya peristiwa
 - C. Alasannya terjadinya peristiwa
 - D. Urutan terjadinya peristiwa
16. Bacalah teks berikut!
- Teman, bangsa kita ini merupakan bangsa yang besar. Bangsa yang terdiri dari ribuan pulau yang mempunyai berbagai kebudayaan. Dengan adanya beribu-ribu pulau, terdapat banyak tempat wisata indah yang dapat kita kunjungi. Dengan berbagai kebudayaan terdapat banyak hiburan tentang kesenian-kesenian budaya yang kita miliki. Oleh karena itu, kita harus bangga menjadi anak bangsa.
- Isi informasi tersebut yaitu
- A. Bangsa kita bangsa yang besar.
 - B. Bangsa kita memiliki ribuan pulau yang mempunyai berbagai kebudayaan.
 - C. Kita harus bangga menjadi anak bangsa.
 - D. Kita harus mengetahui semua kebudayaan yang ada di bangsa kita.
17. "Bung Tomo lahir di Surabaya pada tahun 1920. Bung Tomo berprofesi sebagai wartawan dan Namanya terkenal ketika pertempuran 10 November 1945 di Surabaya. Makamnya terletak di tempat pemakaman umum di Surabaya". Kata tanya yang tepat untuk menanyakan informasi tentang waktu lahirnya Bung Tomo adalah
- A. Kapan
 - B. Dimana
 - C. Mengapa
 - D. Bagaimana
18. Pernyataan berikut ini yang tidak sesuai dengan teks di atas adalah
- A. Mimikri merupakan kemampuan yang dimiliki bunglon untuk mengelabui musuhnya
 - B. Cecak akan memutuskan ekornya jika merasa terancam untuk kabur dari sergapan musuh
 - C. Jika berada pada dedaunan bunglon akan mengubah warna ekornya menjadi hijau
 - D. Kemampuan adaptasi untuk menghindari pemangsa yang dilakukan oleh cecak disebut autotomy
19. Perhatikan pernyataan-pernyataan berikut!
- (1) Catatlah hal-hal penting dari bacaan tersebut!
 - (2) Tulislah ringkasan informasi berdasarkan pokok-pokok informasinya!
 - (3) Bacalah dengan cermat bacaan untuk mendapatkan gambaran umum isi bacaan!
 - (4) Sampaikanlah informasi kepada orang lain dengan runtut, baik, dan benar!
- Urutan yang benar dalam menyampaikan informasi adalah
- A. (3), (2), (1), dan (4)
 - B. (1), (2), (3), dan (4)
 - C. (3), (1), (2), dan (4)
 - D. (2), (3), (1), dan (4)

20. Bacalah teks berikut ini *Teks 1*

Bunglon merupakan salah satu hewan yang unik. Ia mampu beradaptasi di lingkungannya dengan cara mimikri. Bunglon dapat mengubah warna kulit sesuai warna benda di sekitarnya agar dapat mengelabui binatang pemangsa. Jika bunglon dekat dengan dedaunan hijau maka dia akan berubah warna kulit menjadi hijau.

Teks 2

Cecak mempunyai kemampuan beradaptasi dengan cara autotomi. Jika merasa terancam ia akan memutuskan ekornya sendiri untuk kabur dari sergapan musuh. Ekor yang putus akan melakukan gerakan-gerakan sehingga perhatian pemangsa akan fokus ke arah ekor yang putus. Cecak pun bisa kabur dengan lebih leluasa.

Persamaan kedua teks tersebut adalah

- A. membahas tentang cara adaptasi hewan
- B. bunglon beradaptasi dengan mengubah warna kulit, sementara cecak dengan melakukan autotomi
- C. membahas tentang cara hewan memangsa musuhnya
- D. cecak merupakan hewan dengan ukuran yang lebih kecil daripada bunglon

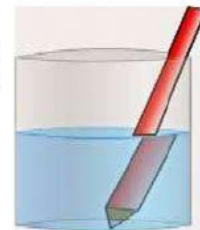
IPA

21. Perhatikan tabel disamping!

No	Sifat Cahaya
1	Cahaya dapat dipantulkan
2	Cahaya dapat dibelokkan oleh magnet
3	Cahaya menembus benda bening
4	Cahaya memerlukan medium untuk merambat

Sifat cahaya yang tepat ditunjukkan oleh nomor

- A. 1 dan 2
 - B. 1 dan 3
 - C. 2 dan 4
 - D. 3 dan 4
22. Cahaya adalah sebuah bentuk energi yang telah dipancarkan dengan sebuah benda atau sumber cahaya dalam bentuk gelombang yakni bernama elektromagnetik yang memiliki sifat tertentu. Di bawah ini termasuk sifat cahaya adalah
- A. menembus benda gelap
 - B. dapat dipantulkan
 - C. menyinari seluruh ruangan
 - D. merambat melalui benda cair
23. Percobaan memasukan pensil ke dalam gelas, seolah – olah pensil tersebut seperti patah. Hal ini disebabkan bahwa cahaya mengalami
- A. pemantulan
 - B. pembiasan
 - C. penguraian
 - D. penembusan
24. Kita dapat melihat sinar matahari memasuki rumah dan melalui kaca di jendela kita di rumah pada pagi hari. Penyebabnya adalah
- A. cahaya matahari membias melalui kaca tersebut
 - B. cahaya matahari menembus kaca sebagai benda bening
 - C. cahaya matahari dipantulkan melalui kaca tersebut
 - D. cahaya matahari terurai oleh kaca tersebut






25. benda pada gambar di atas banyak sekali kita temukan di persimpangan jalan. Benda tersebut menggunakan cermin
- cekung
 - cekung
 - datar
 - silinder
26. Sifat cahaya dapat merambat lurus ditunjukkan oleh peristiwa
- Lani menyaksikan pelangi diteras rumahnya
 - Beni melihat arah lampu senter di malam hari
 - Edo mengamati dasar kola mikan yang menjadi lebih dangkal
 - Siti melihat kendaraan di belakang melalui kaca spion
27. Pelangi biasanya terlihat setelah hujan turun, pelangi terbentuk karena sinar matahari diuraikan oleh
- Bebatuan
 - Kabut tipis
 - Tiupan angin kencang
 - Butiran air hujan

28. Benda yang dapat ditembus atau dilewati cahaya disebut
- maya, tegak, sama besar
 - maya, terbalik, sama besar
 - maya, terbalik, diperkecil
 - maya, tegak, diperkecil



29. sifat cahaya yang sesuai gambar di Samping adalah

- cahaya dapat dibiaskan
- cahaya dapat dipantulkan
- cahaya merambat lurus
- cahaya dapat menembus benda bening




30. Berkas cahaya matahari yang menerobos masuk melalui celah genting maupun ventilasi akan tampak berupa garis – garis lurus. Hal ini membuktikan bahwa cahaya bersifat
- Merambat lurus
 - Menembus benda bening
 - Dapat dipantulkan
 - Dapat dibiaskan

IPS

31. Di Indonesia menyimpan banyak sejarah masa lalu dengan ditemukannya banyak candi yang tersebar di seluruh nusantara. Salah satunya adalah candi Borobudur. Candi tersebut adalah peninggalan kerajaan
- Dinasti Syailendra
 - Wangsa Sanjaya
 - Majapahit
 - Tarumanegara

32. Candi Penataran bisa ditemukan di wilayah Jawa Timur. Candi tersebut merupakan peninggalan dari kerajaan
- A. Majapahit
 - B. Kediri
 - C. Daha
 - D. Mataram Hindu

33. Gambar tokoh disamping berasal dari Kerajaan ...
- A. Aceh
 - B. Sriwijaya
 - C. Majapahit
 - D. Taruma negara



34. Gambar diatas yang merupakan peninggalan masa lalu kerajaan di Indonesia adalah
- A. Candi Borobudur dan arca
 - B. Arca dan lukisan pemandangan
 - C. Patung Monas dan candi Prambanan
 - D. Makan Batu dan Lukisan Monalisa
35. Candi Prambanan merupakan peninggalan kerajaan Mataram Kuno yang bernama
- A. Budha
 - B. Hindu
 - C. Kongkhucu
 - D. Islam
36. Ki Hajar Dewantara adalah pahlawan nasional di bidang
- A. Perdagangan
 - B. Pendidikan
 - C. Pertanian
 - D. kesehatan
37. Karena keberaniannya menentang VOC, Sultan Hasanuddin dijuluki
- A. Macan kemayoran
 - B. Ayam jantan dari timur
 - C. Harimau lapar
 - D. Juku eja
38. Hasil utama kerajaan Ternate adalah
- A. Cengkeh dan pala
 - B. Mutiara dan ikan
 - C. Minyak dan kelapa
 - D. Tembakau dan cengkeh
39. Penyebab kemunduran kerajaan Banten adalah adanya perselisihan antara Sultan Ageng Tirtayasa dengan putranya yang bernama
- A. Sultan Hasanuddin
 - B. Maulana Yusuf
 - C. Maulana Muhammad
 - D. Sultan Haji
40. Berikut ini yang termasuk ke dalam peninggalan kerajaan Majapahit adalah
- A. Masjid Demak
 - B. Menara Kudus
 - C. Candi Penataran
 - D. Keraton Yogyakarta

SBDP

41. Dalam sebuah lagu terdapat birama disebut juga dengan ketukan – ketukan. Kadang terdapat birama 4/4 dalam sebuah lagu. Hal ini dapat diartikan bahwa lagu tersebut adalah
- A. Tiap birama terdiri empat ketukan
 - B. Tiap birama terdiri dua ketukan
 - C. Tiap birama terdiri enam ketukan
 - D. Tiap birama terdiri tiga ketukan
42. Nilai baik yang terkandung dalam lagu “Maju Tak Gentar” adalah
- A. Semangat perjuangan
 - B. Pantang menyerah
 - C. Gigih dan pemberani
 - D. Rela berkorban
43. Tempo marcia dalam lagu bertema perjuangan memberikan kesan
- A. Semangat
 - B. Sedih
 - C. Susah
 - D. Senang
44. Lagu “Hari Merdeka” mengandung nilai kepahlawanan yang tinggi. Lagu tersebut dinyanyikan dalam tempo yang
- A. Lambat
 - B. Cepat
 - C. Santai
 - D. Pelan

Halo Halo Bandung

Ismail Marzuki

Do = F
4/4 Tempo *marcia*

1

5 | 3 . . 2 . 7 | 2 1 0 5 6 . 7 | 1 7 6 5 | 7 . 0

Hal lo hallo Ban-dung i bu ko ta Pe ri a ngan

2

5 | 4 . . 3 . 2 | 3 2 . 2 . 1 | 7 2 5 6 | 3 . 0

Hal lo hallo Ban-dung ko ta kenang-kena ngan

45. Keterangan lagu yang di dapat dari point 1 dan 2 adalah
- A. (1) nada bernilai 4 ketukan dan (2) nada rendah
 - B. (1) nada bernilai 3 ketukan dan (2) nada rendah
 - C. (1) nada bernilai 4 ketukan dan (2) nada rendah
 - D. (1) nada bernilai 3 ketukan dan (2) nada tinggi
46. Berikut ini yang termasuk ke dalam lagu bertemakan perjuangan kemerdekaan adalah
- A. Hati Gembira
 - B. Potong Bebek Angsa
 - C. Rayuan Pulau Kelapa
 - D. Hari Merdeka

MAJU TAK GENTAR

Bes=do

4/4

Marcia

C. Simandjuntak



47. Dari Syair lagu lagu diatas di dapat informasi
- 1) Temponya 4/4
 - 2) Pencipta lagu C . Simanjuntak
 - 3) Birama 4/4
 - 4) Lirik sedih
- Pernyataan yang benar adalah
- A. 1, 2, 3 dan 4
 - B. 1,2, 3
 - C. 1 dan 3
 - D. 2 dan 3
48. Berikut ini merupakan langkah – langkah dalam melakukan apresiasi musik yaitu
- A. Menyimak, menikmati dan menilai
 - B. Menyimak, menikmati dan menyanyi
 - C. Menyimak, menilai dan menyanyi
 - D. Menikmati, menilai dan menonton
49. Perhatikan judul-judul lagu berikut!
- (1) Gugur Bunga
 - (2) Maju Tak Gentar
 - (3) Mengheningkan Cipta
 - (4) Bagimu Negeri
- Lagu dengan tempo cepat adalah lagu nomor
- A. 1
 - B. 2
 - C. 3
 - D. 4
50. Tempo lagu yang tergolong kedalam jenis cepat adalah
- A. Presto dan allegro
 - B. Vivace dan presto
 - C. Larghetto dan presto
 - D. Marcia dan vivace

*****Semoga berhasil*****