

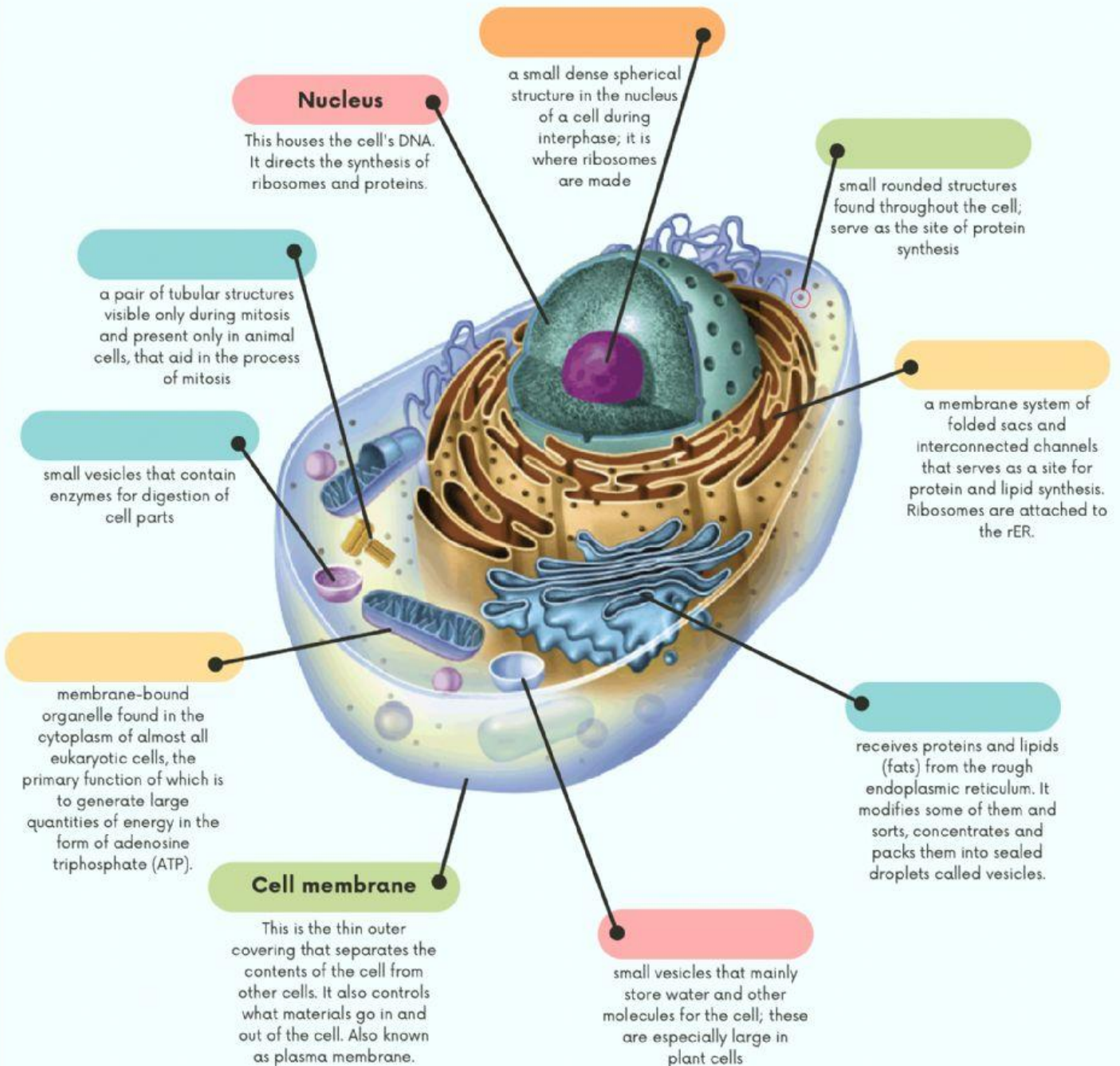
Name:

Class:

No:

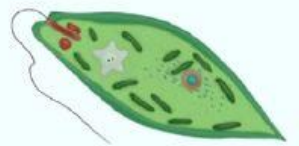
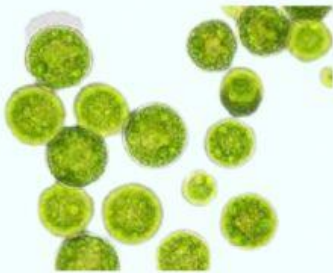

# Eukaryote

ระบุองค์ประกอบของเซลล์ยูแคริโอตต่อไปนี้ให้ถูกต้อง  
(พิมพ์คำตอบด้วยภาษาอังกฤษเท่านั้น และต้องสะกดคำให้ถูกต้อง)



# Protist

นำสิ่งมีชีวิตกลุ่มโพรทิสต์ต่อไปนี้ จัดลงในกลุ่มให้ถูกต้อง



โพรทิสต์

โพรทิสต์ที่คล้ายรา

สาหร่าย

เป็นโพรทิสต์ที่มีความหลากหลายสูงมาก ลักษณะเป็นสิ่งมีชีวิตเซลล์เดียวที่สร้างอาหารเองไม่ได้ ต้องกินอาหารหรือรับสารอินทรีย์จากภายนอกแล้วเกิดการย่อยอาหารภายในเซลล์

เป็นโพรทิสต์ที่สร้างอาหารเองไม่ได้ มีลักษณะภายนอกและการดำรงชีวิตคล้ายรา

เป็นโพรทิสต์ที่สร้างอาหารเองได้ด้วยกระบวนการสังเคราะห์ด้วยแสง มีความหลากหลายสูงเช่นเดียวกับโพรทิสต์ พบได้ทั้งที่เป็นเซลล์เดียว เป็นโคไลไน เป็นสายที่อาจแยกแขนงหรือไม่แยกแขนง หรือมีพัฒนาการเกิดเป็นโครงสร้างส่วนต่าง ๆ ที่เห็นได้ชัดเจน