


## FIȘĂ DE LUCRU - RITMUL MUZICAL

1. Răspundeți cu Adevărat sau Fals la următoarele enunțuri

a). Pătrimea durează doi timpi .....



b). Șaisprezecimea este  .....

c).  este pauza de doime .....

d). Nota întregă durează 1 timp .....

2. Trage răspunsul corespunzător în casete

optimea    pătrimea    pauza de nota întregă    pauza de pătrime



3. Găsește cuvintele din rebusul de mai jos

ȘAISPREZECIME  
OPTIME  
PĂTRIME  
NOTA ÎNTREAGĂ  
DOIME

