

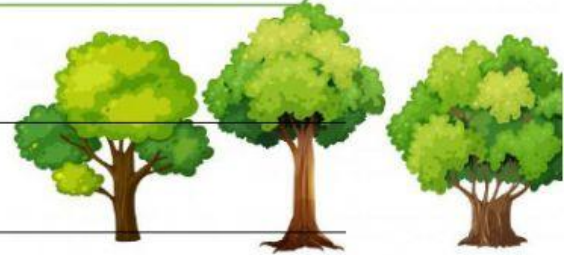


WORD PROBLEM WITH TWO STEPS
(GIẢI TOÁN BẰNG HAI PHÉP TÍNH)

1

Lớp 3B trồng được 112 cây xanh, lớp 3C trồng được ít hơn lớp 3B 17 cây xanh. Hỏi cả hai lớp trồng được bao nhiêu cây xanh?

Số cây xanh lớp 3C trồng được là:



Đáp số:

2


Một đàn gà có 45 con gà trống, số gà mái nhiều hơn gà trống 16 con. Hỏi cả đàn gà có tất cả bao nhiêu con?



Đáp số:

3

Nêu bài toán theo tóm tắt sau rồi giải bài toán đó.



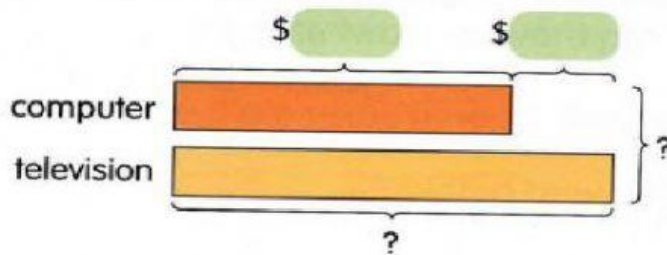

Bài toán:



Đáp số:

4

A computer cost \$195.
A computer cost \$26 less than the television.
How much did both items cost altogether?



Find out the cost of the television first!



\$ [] + \$ [] = \$ []

The television cost \$ []

\$ [] + \$ [] = \$ []

Both items cost \$ [] altogether.

5

There were 720 girls in a school.
There were 250 more boys than girls in the school.
How many pupils were there in the school?

[] + [] = []

There were [] boys in the school

[] + [] = []

There were [] pupils in the school.