
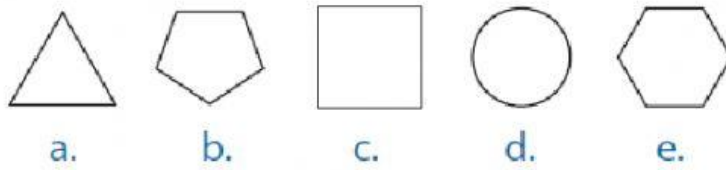


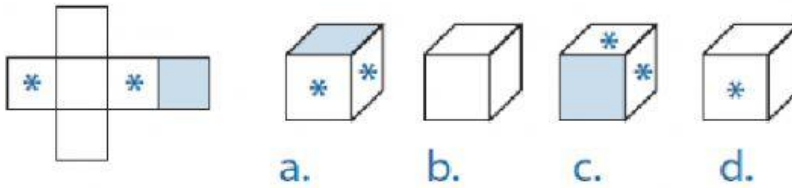
1. ¿Qué figura sigue en cada una de las sucesiones gráficas siguientes?



2. En cada secuencia gráfica, Indica la figura que no guarda relación con las demás.



3. Señala la figura que se forma en cada desarrollo de sólidos.



4. Determina la figura que falta en la siguiente matriz

