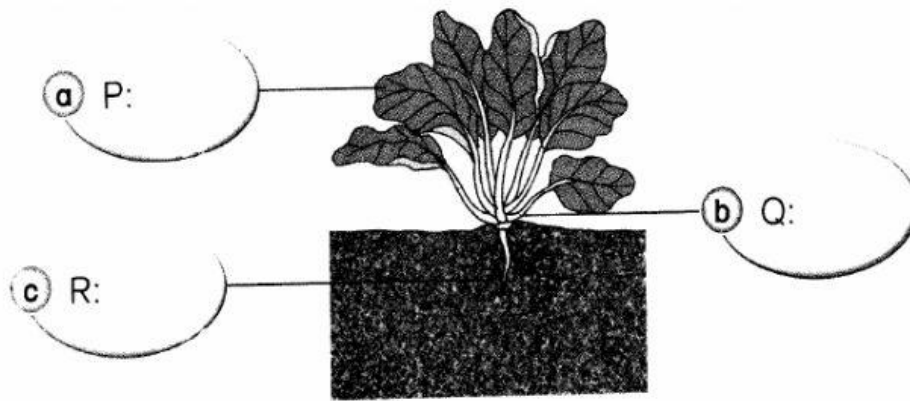


J. 写出以下植物的各部位。(6分)



叶子
茎
根

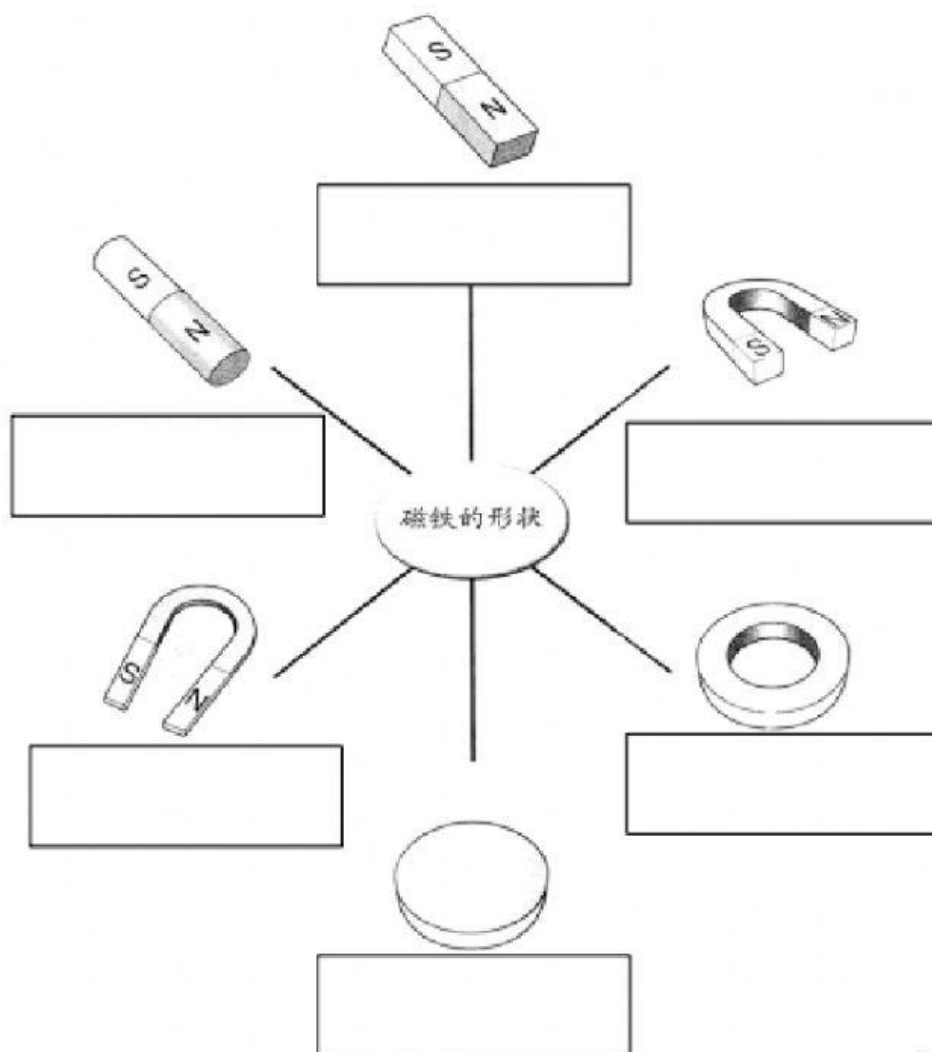
K. 圈出正确的答案。(8分)

	<p>菠菜是(草质茎、木质茎)植物,它的茎是(坚硬、柔软)的。它有(主根、须根)。蔬菜的叶子呈(平行脉、网状脉)</p>
--	--

I. 把能够被磁铁吸引的物体画(√)(4分)

<input type="checkbox"/>	<input type="checkbox"/>	<input type="checkbox"/>	<input type="checkbox"/>


L. 在格子里填上正确的磁铁种类名称。（6分）






条形	U形	马蹄形
棒形	纽扣形	环形

M. 选出正确的答案。


N. 在正确的答案下画线。（4分）

	雨衣（会、不会）吸水，所以身体不会被雨水淋湿。
	海绵（会、不会）吸水，所以能够清洗碗里的油渍。
	水桶是由（会、不会）吸水的材料制成的，它可以用来盛水；拖把（能吸水、不能吸水），可以用来把地上的水抹干净。

O. 这些植物适合种在哪种土壤？填上正确的土壤。（6分）


		

沙土

壤土

黏土


P. 写出地形的名称。(16分)



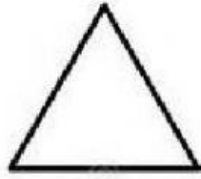
山丘	湖	河	海
池塘	高山	山谷	沙滩



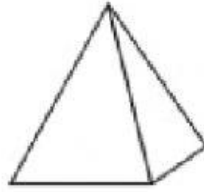
Q. 各将代表基本形状和基本立体的字母填在格子里。(4分)



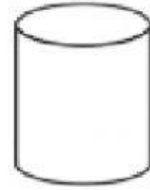
W



X




Y



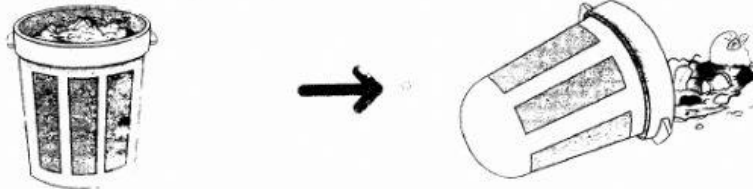
Z

基本形状	
基本立体	

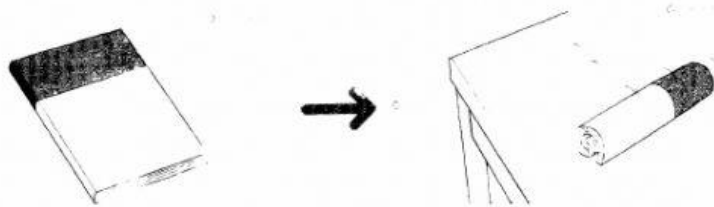
R. 针对以下情况，圈出正确的答案。(5分)



1. 如果将乒乓球改成正方体会怎样?  
正方体的乒乓球 (会, 不会) 滚动,  
我们就 (能, 不能) 打乒乓了。



2. 如果将垃圾桶的底部改成球体会怎样?  
底部球体的垃圾桶会 (滚动、固定), 会使垃圾全部倒出来。



3. 如果将书本改成圆柱体会怎样?  
圆柱体的曲面使书本不会 (滚动、固定), 所以 (能够、无法) 看清楚上面的文字。