


Nome: _____

Trabalho de Matemática: 3º Trimestre


Instruções:

1. Leia com atenção os enunciados das questões.
2. Faça com atenção e dedicação. Confie em você! 😊
3. Valor 3,0.

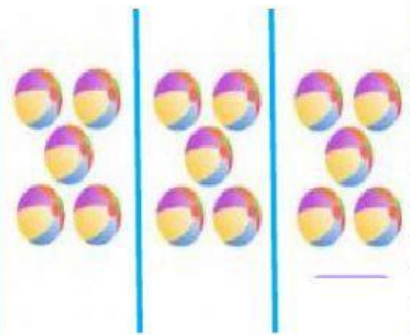
1) Complete as multiplicações.



$$\square \times \square = \square$$




$$\square \times \square = \square$$




$$\square \times \square = \square$$



$$\square \times \square = \square$$



$$\square \times \square = \square$$



$$\square \times \square = \square$$

2) Arraste as adições correspondentes à cada multiplicação a seguir.

$4 + 4 + 4 + 4 + 4 + 4$

$10 + 10$

$3 + 3 + 3 + 3 + 3$

$4 + 4 + 4 + 4$

$6 + 6 + 6$

$5 + 5 + 5 + 5 + 5$

3×6

$= 18$

5×3

$= 15$

2×10

$= 20$

5×5

$= 25$

6×4

$= 24$

4×4

$= 16$

3) Resolva as operações e complete a trilha com os resultados.

