



Sistema sexagesimal:

El reloj




1.- ¿Qué tiempo duro el viaje que hizo cada autobús? Observa la tabla y completa.


				
SALIDA	06:30	10:15	19:50	23:30
LLEGADA	07:50	13:30	21:45	01:00
DURACIÓN DEL VIAJE	:	:	:	:

2.- Dibuja las agujas de los relojes digitales y escribe los números en los analógicos.

Conchi sale de casa a las 10 y media de la mañana y regresa 2 horas y media después. ¿A qué hora regresa?



sale




regresa



Israel estuvo en el gimnasio una hora y cuarto y salió del gimnasio a las 5 y cuarto de la tarde. ¿A qué hora llegó al gimnasio?



llegó



sale

