


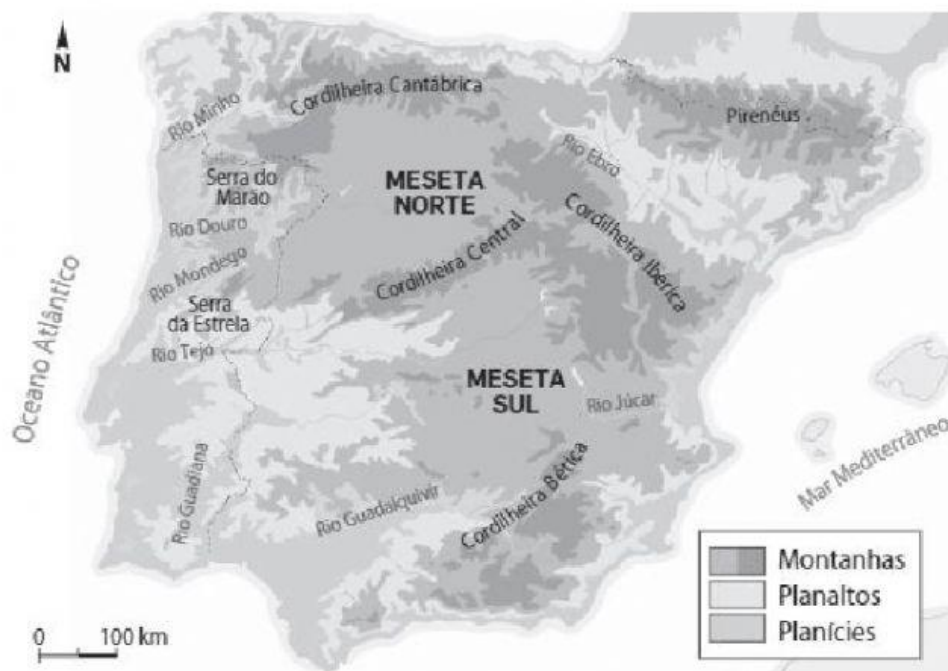
Subdomínio A2: A Península Ibérica - quadro Natural

Nome _____ n.º _____ Turma _____

- 1- Observa a figura 1. Escreve o nome das principais formas de relevo.



- 2- Observa a figura 2.



- 2.1. Identifica, a partir da figura 2

- a) duas montanhas.
- b) dois planaltos.
- c) uma planície.
- d) três rios que desaguam no oceano Atlântico.
- e) dois rios que desaguam no mar Mediterrâneo.

2.2. Selecciona as opções que completam corretamente o texto.

Em Portugal Continental, a norte do rio Tejo, o relevo é mais (montanhoso | plano) _____ e de (menor | maior) _____ altitude; enquanto a sul do rio Tejo, o relevo é mais (plano | montanhoso) _____ e de (maior | menor) _____ altitude.

3. Atenta nas figuras 3 e 4.

Figura 3.

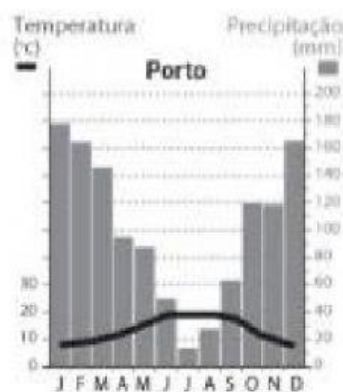
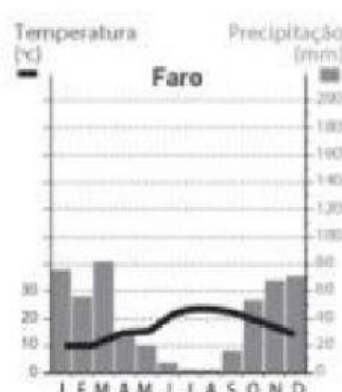


Figura 4.



3.1. A partir das figuras 3 e 4, indica os meses mais quentes em cada uma das cidades representadas.

Porto:

Faro:

3.2. Identifica os instrumentos que servem para medir:

a) a temperatura:

b) a precipitação

4. Completa, a partir dos documentos, o seguinte quadro:

Cidade	Região	Tipo de clima	Características do clima	Vegetação
a) _____	Norte litoral	b) _____ _____ _____	As temperaturas são c) _____ e a precipitação anual é abundante, principalmente no d) _____.	Predomina o pinheiro-bravo e o e) _____.
Faro	f) _____	g) _____ _____ _____	As temperaturas são suaves no inverno e h) _____ no verão; as i) _____ são irregulares, ocorrendo sobretudo no inverno.	Predomina o j) _____, a azinheira, a k) _____ e a oliveira.



5. Relaciona as letras da coluna da esquerda com os respetivos números da coluna da direita.

- | | |
|-----------------------|--|
| A. Rede hidrográfica | 1. Conjunto de formas da superfície terrestre. |
| B. Bacia hidrográfica | 2. Distância vertical entre o nível médio das águas do mar e um determinado ponto da superfície terrestre. |
| C. Relevo | 3. Porção de terra que conduz a água resultante da precipitação para um rio e seus afluentes. |
| D. Altitude | 4. Conjunto formado por um rio e os seus afluentes. |

6. Relaciona os números das regiões da Península Ibérica com as letras dos diferentes tipos de clima temperado.

- | | |
|---------------------|----------------------------------|
| 1. Interior | A. Clima Temperado marítimo |
| 2. Sul | B. Clima Temperado continental |
| 3. Norte e Noroeste | C. Clima Temperado mediterrânico |

7. Selecciona, em cada texto, a informação correta.

	<p>O arquipélago da Madeira Localiza-se no oceano Atlântico, a (sudoeste/sudeste) _____ de Portugal continental. O seu relevo é muito (acidentado/nivelado) _____ e os cursos de água chamam-se (rios/ribeiras) _____. O clima é (temperado/frio) _____ (do norte/mediterrâneo), _____ com um verão quente e seco e um inverno com temperaturas elevadas. Possui uma vegetação rica e variada, com realce para a floresta Laurissilva.</p>
	<p>O arquipélago dos Açores Situa-se no oceano Atlântico, a meio caminho entre a Europa e a América do (Norte/Sul) _____. É um arquipélago constituído por (oito/nove) _____ ilhas. O clima é húmido. Nas crateras dos vulcões extintos, formaram-se caldeiras. Possui uma vegetação natural variada, destacando-se o (cedro/pinheiro) _____, o azevinho e a urze.</p>