



TRƯỜNG MẪU GIÁO TUỔI THƠ - BA ĐÌNH

*KHỐI MẪU GIÁO LỚN*

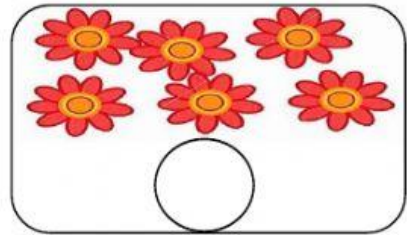
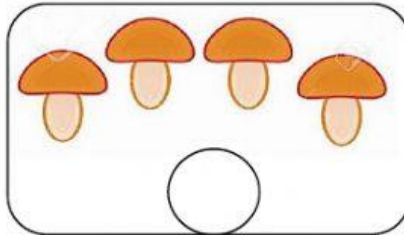
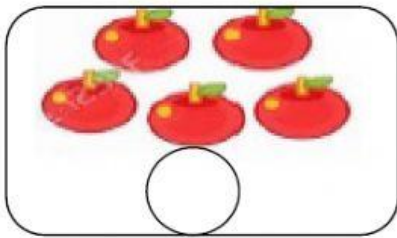
# LÀM QUEN VỚI TOÁN



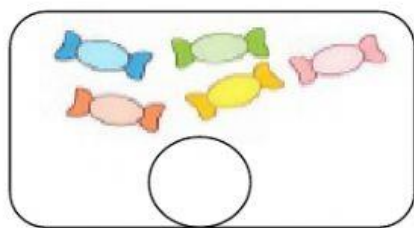
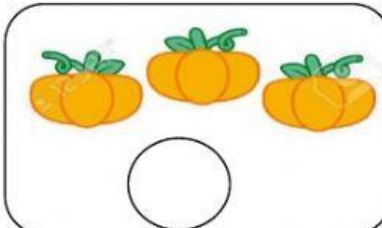
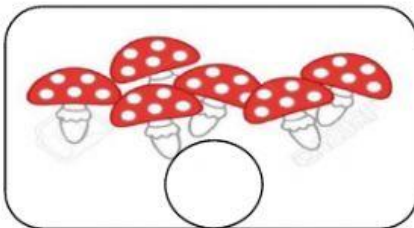


# Bài 1:


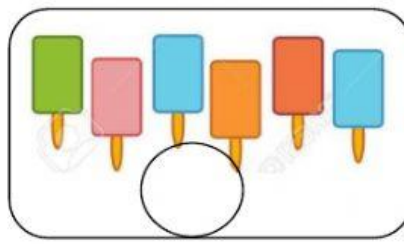
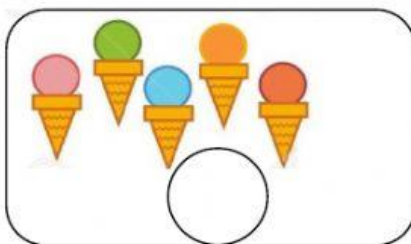
Các con hãy giúp cô chọn các số vào từng nhóm có đối tượng tương ứng nhé



- 6
- 4
- 5



- 3
- 6
- 5




- 4
- 6
- 5

## Bài 2:

Các con hãy đếm số lượng và chọn số tương ứng với nhóm đối tượng đó



a. Có bao nhiêu con cá



1 2 3 4 5 6 7 8 9 10

b. Có bao nhiêu bánh xe?




1 2 3 4 5 6 7 8 9 10

c. Có bao nhiêu quả cam?



1 2 3 4 5 6 7 8 9 10

d. Có bao nhiêu miếng Pizza?



1 2 3 4 5 6 7 8 9 10



### Bài 3:

Các con hãy nối các số tương ứng với các nhóm đối tượng trong hình bên dưới nhé!



1

2

3

4

5

6

7

8

9

10

