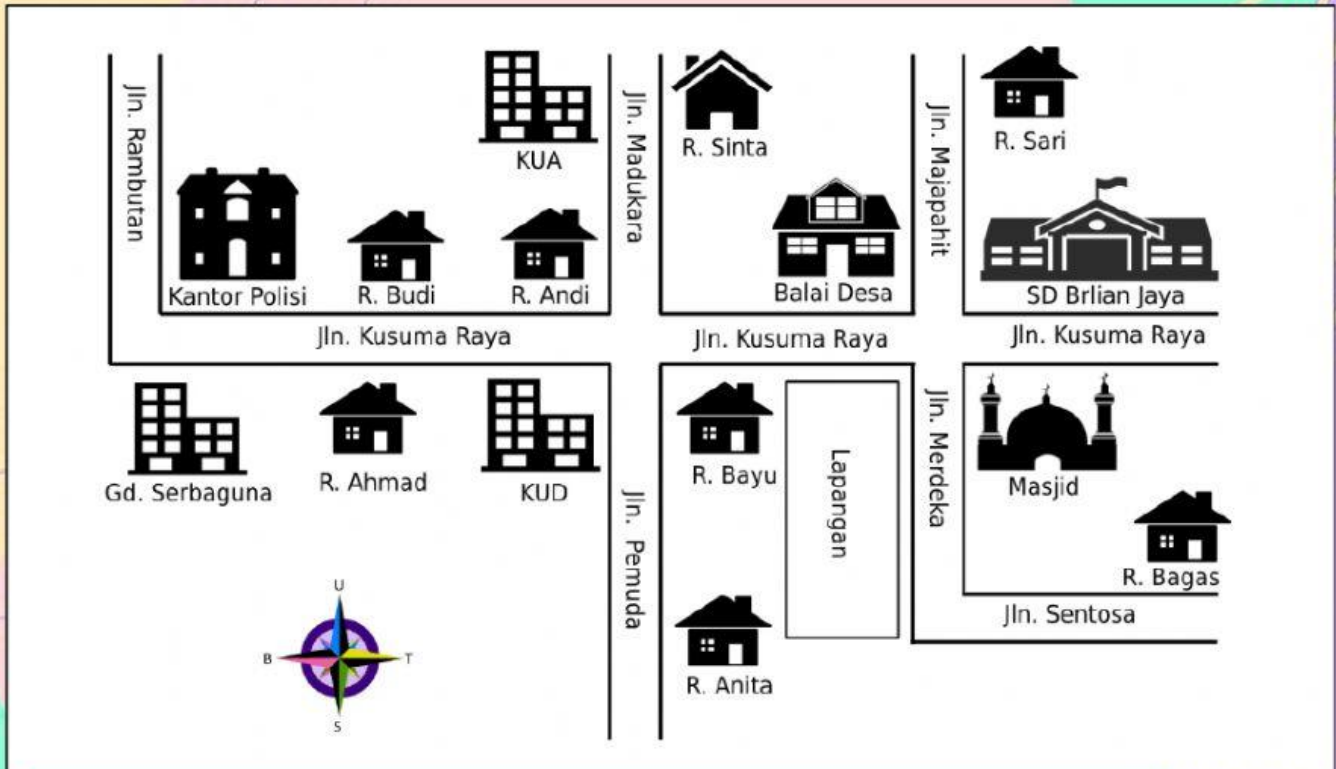


NAMA :

.....

SOAL LATIHAN
MATEMATIKA KELAS 5
" DENAH "

Perhatikan denah di bawah ini!



SOAL MENARIK GARIS

Berdasarkan denah di atas, silahkan tarik garis dari lajur kanan ke lajur kiri sehingga menjadi jawaban yang benar!

1. Balai desa berada di sebelah ... SD Brilian Jaya

Barat

2. Sebelah timur rumah Ahmad adalah

Utara

3. Ada berapa rumah dalam denah di atas?

15

4. Ada berapa bangunan dalam denah di atas?

KUD

5. KUA berada di sebelah R. Andi

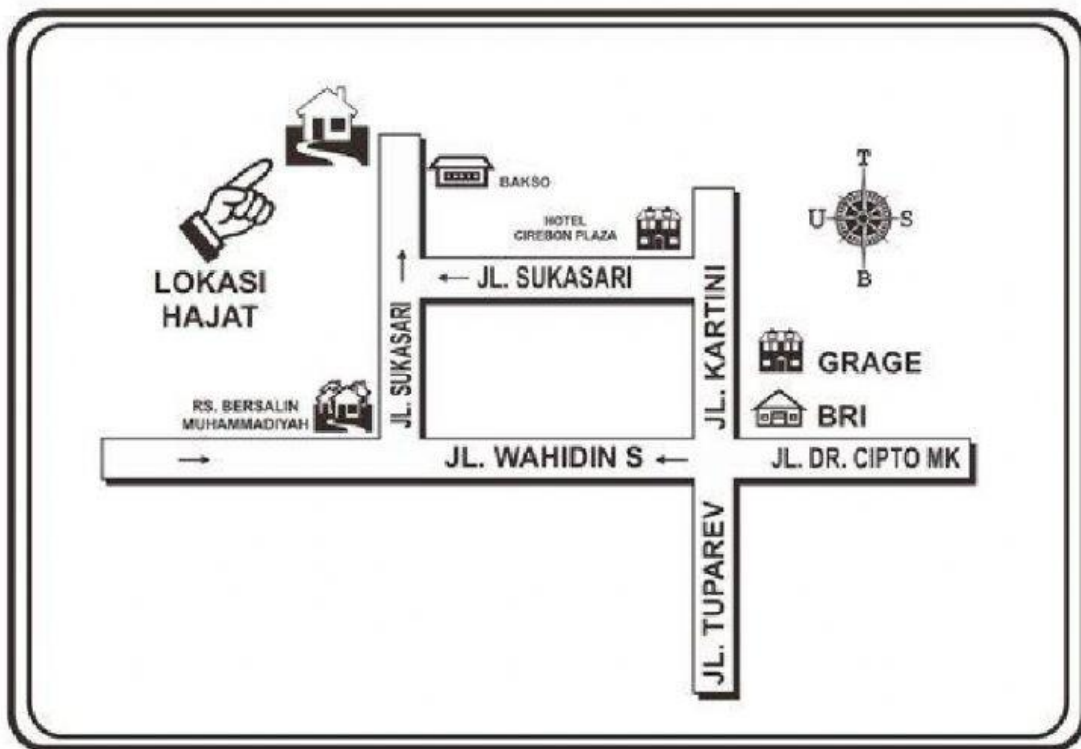
Gd. Serbaguna

6. Sebelah selatan kantor polisi adalah ...

8

Perhatikan denah di bawah ini!

DENAH DUSUN BAHAGIA



SOAL DRAG AND DROP

Berdasarkan denah di atas, Lengkapi penytaan di bawah ini dengan cara menarik kolom jawaban pada kolom pertanyaan yang sesuai!

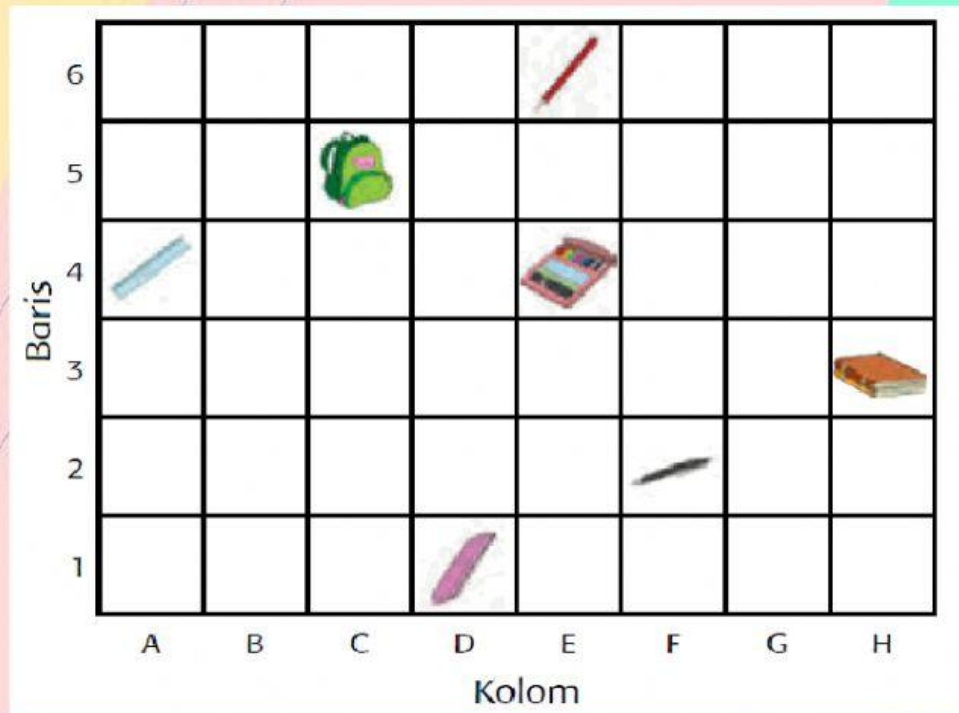
Pertanyaan

1. Bagaimana cara Ali ke lokasi hajat, jika Andi berada di BRI ?
Caranya yaitu Andi harus jalan lurus ke arah ... dari JL.Dr CIPTO MK ke JL. WAHIDIN S, kemudian belok ke ... JL.SUKASARI
2. Hotel Cirebon Plaza berada di Jalan ...
3. Bagaimana cara Aini menuju ke RS. Bersalin Muhammadiyah, jika dia berada di GRAGE?
Caranya yaitu Aini menuju ke arah ... dari Jalan ...
Kemudian belok ke arah utara dan jalan terus menuju jalan ...

Jawaban

- Barat
- Timur
- JL.SUKASARI
- JL.KARTINI
- UTARA
- JL.WAHIDIN S

Perhatikan gambar di bawah ini!



Berdasarkan gambar di atas, lengkapi tabel posisi benda di bawah ini dengan cara menarik kolom jawaban pada kolom tabel yang sesuai!

NAMA BENDA	POSISI BENDA
TAS	...
BUKU	...
PENGGARIS	...
CRAYON	...
PENSIL	...

(H, 3)

(E, 4)

(C, 5)

(A, 4)

(E, 6)

Perhatikan gambar di bawah ini!

Letakkan benda pada koordinat yang tepat dengan cara menarik benda pada koordinat yang sesuai!

Baris

Kolom



almari



lampu



telepon



cermin



sofa

Nama Benda	Posisi Benda
Almari	(C, 3)
Lampu	(G, 5)
Sofa	(F, 3)
Telepon	(H, 1)
Cermin	(B, 3)