



**COLEGIO CAMPESTRE
RINCONCITO DEL FOYER**
Verificación de logros

**MATERIAL DE
APOYO**

FECHA:
noviembre

DESEMPEÑO	NOTA
SUPERIOR	9.6-10
ALTO	8.0-9.5
BASICO	7.0-7.9
BAJO	1.0-6.9

AREA: Matemáticas

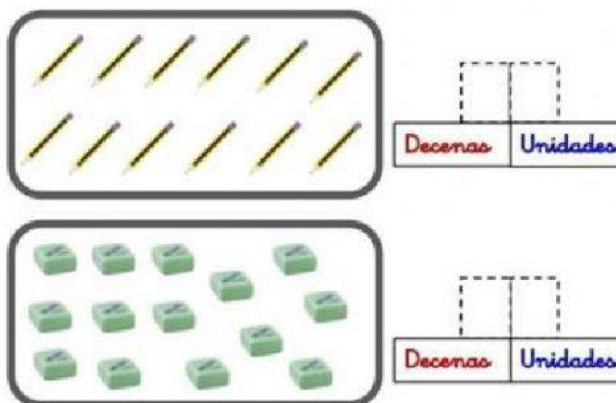
DOCENTE: Lic. Gisela Sarmiento

GRADO: Primero

ESTUDIANTE:

Lee atentamente cada pregunta y selecciona la respuesta correcta.

1. Escribe la respuesta correcta: ¿Cuántas decenas y unidades hay en cada Situación?



2. Lee el problema, realiza una x en la operación que la resuelve y escribe la respuesta correcta.

Mañana vamos a la excursión de la granja 24 niños de la clase de 1º A y 17 niños de la clase 1º B. ¿Cuántos niños iremos en total a la excursión?

☐ Suma ☐ Resta

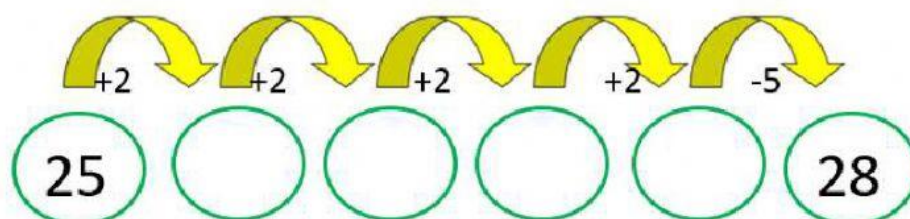
Operación:

Resultado:



	C	D	U

3. Completa la serie de Sumas y restas



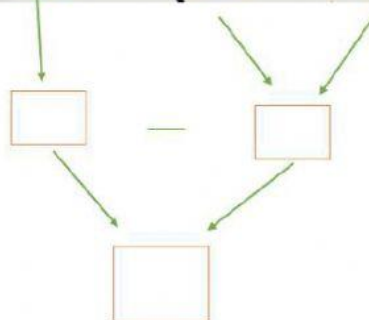
4. Escribe cada cifra en su lugar y calcula la resta:

312-126

C	D	U

5. Resuelve la siguiente operación combinada.

$$82 - (36 + 14)$$



6. Clasifica las siguientes figuras. Para ello, encierra el cartel con la respuesta correcta.



ES SIMÉTRICA

NO ES SIMÉTRICA



ES SIMÉTRICA

NO ES SIMÉTRICA



ES SIMÉTRICA

NO ES SIMÉTRICA

7. Escribe el día de la semana que falta.

LUNES

MIÉRCOLES

JUEVES

SÁBADO

8. Colorea la hora correcta que marca el reloj.



6:30

6:00

12:30



6:30

6:00

12:30