
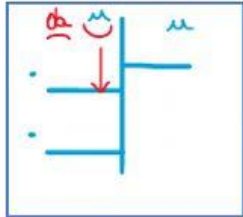

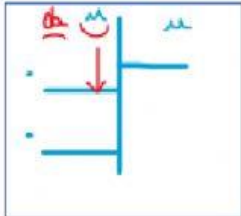

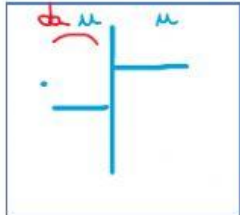


# PROBLEMI IN TABELLA

Problema	Strategia	Operazione
 <p>Dino apre un sacchetto con 75 noccioline e ne divide il contenuto fra i suoi 5 amici in parti uguali. Quante noccioline avrà ogni amico di Dino ?</p>	<p>Bisogna dividere per trovare la quantità che tocca ad ogni amico di Dino.</p>	<div> <div> <div></div> <div></div> <div></div> <div>=</div> <div></div> </div> <div>  </div> <div> <p>Risposta :</p> <p>.....</p> <p>.....</p> </div> </div>
 <p>Gli alunni di una classe decidono di piantare 82 bulbi di tulipano in 6 cassette di legno uguali. Quanti bulbi planteranno in ogni cassetta ? Quanti bulbi non saranno piantati ?</p>	<p>Bisogna distribuire in parti uguali tra le varie cassette di legno.</p>	<div> <div> <div></div> <div></div> <div></div> <div>=</div> <div></div> </div> <div>  </div> <div> <p>Risposta :</p> <p>.....</p> <p>.....</p> </div> </div>
 <p>In futuro 64 bambini pranzeranno a scuola. Nella mensa ogni tavolo ha 8 posti. Quanti tavoli saranno apparecchiati ?</p>	<p>Bisogna dividere in parti uguali per trovare il numero di bambini che si siederanno ad ogni singolo tavolo.</p>	<div> <div> <div></div> <div></div> <div></div> <div>=</div> <div></div> </div> <div>  </div> <div> <p>Risposta :</p> <p>.....</p> <p>.....</p> </div> </div>