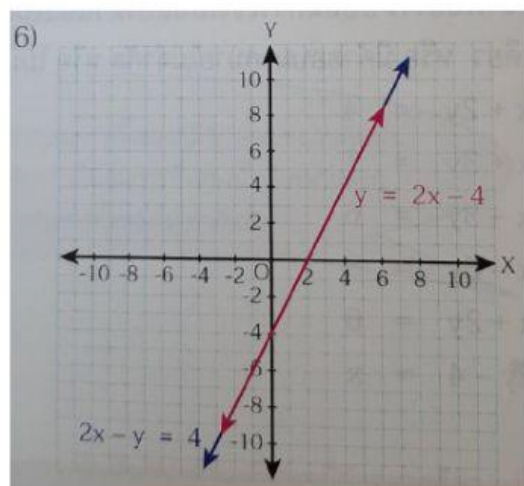
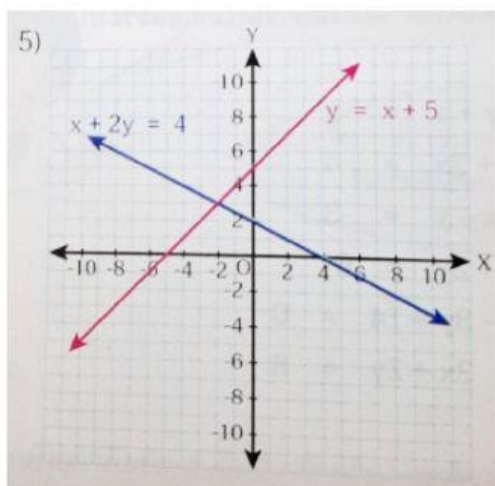
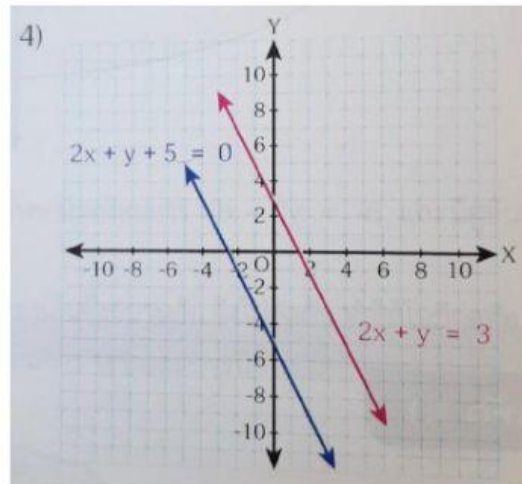
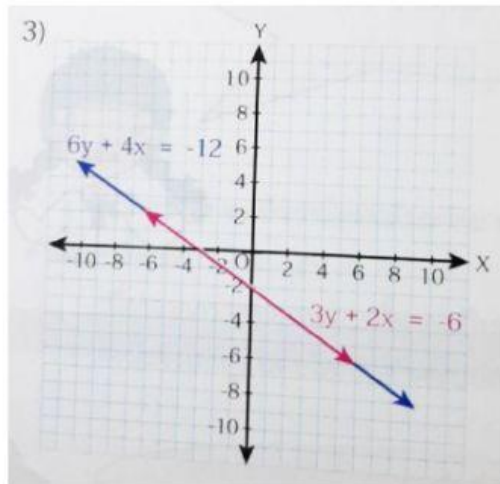
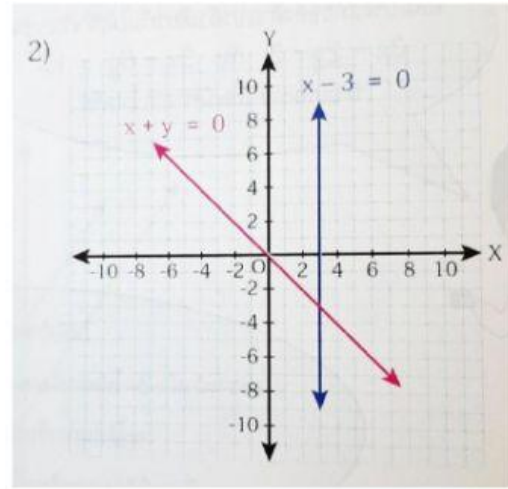
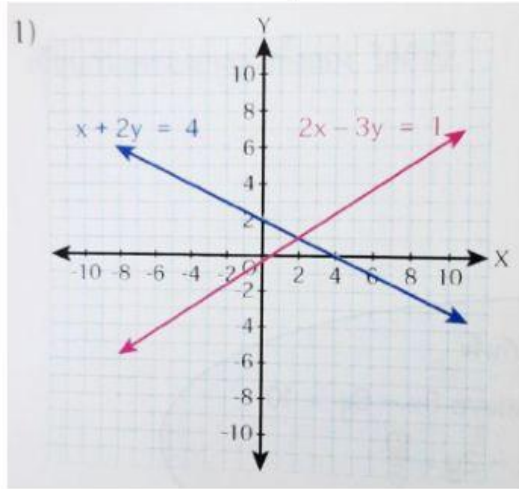


ใบกิจกรรม มีคำตอบหรือไม่

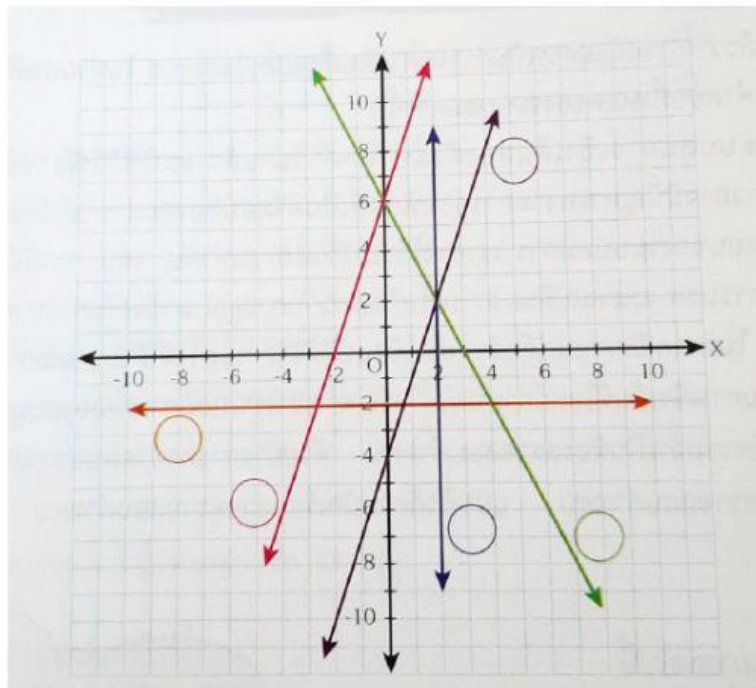
1. จากกราฟของระบบสมการเชิงเส้นสองตัวแปรต่อไปนี้ จงพิจารณาว่าแต่ละระบบสมการมีคำตอบหรือไม่ ในกรณีที่มามีคำตอบเดียวให้ระบุคำตอบนั้น



2. เมื่อกำหนดสมการเชิงเส้นสองตัวแปร ดังนี้

- | | | |
|--------------|-------|---|
| $y + 2x = 6$ | _____ | ① |
| $x = 2$ | _____ | ② |
| $y = 3x - 4$ | _____ | ③ |
| $y - 3x = 6$ | _____ | ④ |
| $y = -2$ | _____ | ⑤ |

1) จงเติมหมายเลขของสมการลงใน ให้สอดคล้องกับกราฟของสมการที่กำหนดให้



2) ระบบสมการเชิงเส้นสองตัวแปรที่ประกอบด้วยสมการ ① และ ④ มีคำตอบหรือไม่
ในกรณีที่มีคำตอบเดียวให้ระบุคำตอบนั้น

.....

3) ระบบสมการเชิงเส้นสองตัวแปรที่ประกอบด้วยสมการ ③ และ ④ มีคำตอบหรือไม่
ในกรณีที่มีคำตอบเดียวให้ระบุคำตอบนั้น

.....

4) ระบบสมการเชิงเส้นสองตัวแปรที่ประกอบด้วยสมการ ② และ ⑤ มีคำตอบหรือไม่
ในกรณีที่มีคำตอบเดียวให้ระบุคำตอบนั้น

.....

5) ระบบสมการเชิงเส้นสองตัวแปรที่ประกอบด้วยสมการ ① และ ⑤ มีคำตอบหรือไม่
ในกรณีที่มีคำตอบเดียวให้ระบุคำตอบนั้น

.....

6) ระบบสมการเชิงเส้นสองตัวแปรที่ประกอบด้วยสมการ ① ② และ ③ มีคำตอบหรือไม่
ในกรณีที่มีคำตอบเดียวให้ระบุคำตอบนั้น

.....