







1. Erdei sétánk során lábnyomokat láttunk a földön. Mely számokat takarják ki a nyomok?

1	2	3	4	5	6	7	8	9	10
11	12	13	14	15	16	17	18		
	22	23	24	25	26	27	28	29	30
31	32	33				37	38	39	40
41	42	43	44	45	46	47	48		
51	52	53	54	55	56	57	58	59	
61	62	63		65		67	68	69	70
71	72	73		75	76		78	79	80
81		83		85	86	87		89	90
91			94	95	96	97	98	99	100



2. Az állatok iskolájában betűvel írt a táblára számokat a tanító úr. Mely számok szerepelnek a táblán? Segíts az állatkölyköknek megoldani a feladatot!

harminckilenc



negyvennégy



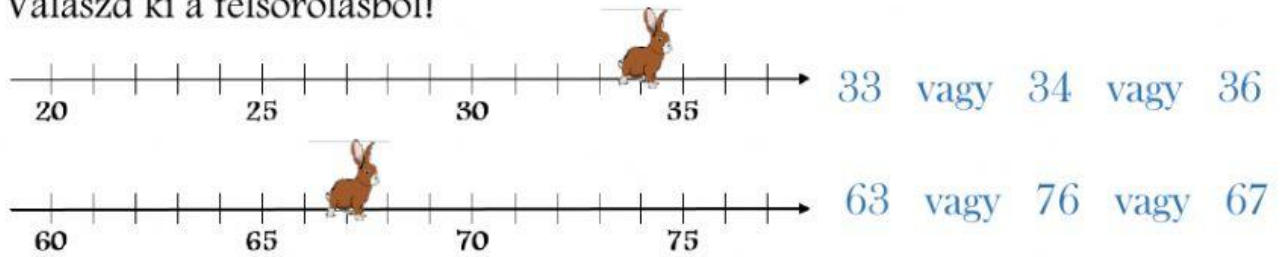
hatvannyolc



nyolcvanegy



3. A nyuszi a számegyenesen ráugrott pár számra. Mely számra ugrott? Válaszd ki a felsorolásból!



4. Jelöld, melyik a helyes!

- A 26 páros szám.
- A 69 kevesebb, mint a 45.
- Az 58 nagyobb számszomszédja az 57.
- A 69 után a 70 következik.
- A 89-nél 1-gyel nagyobb a 80.

5. Melyik madár melyik fészekbe repül? Kösd össze az egyenlőket!

 3 tízes + 15 egyes		
 3 tízes + 9 egyes		
 4 tízes + 28 egyes		
 3 tízes + 40 egyes		
 8 tízes + 6 egyes		

6. Kópé növekvő rendbe szeretné állítani a csontokat a rajtuk lévő szám szerint. Húzd a helyére a csontokat!



< < < <

7. Sün Samu nehéz feladatot kapott! Be kell írnia a számok egyes, tízes szomszédait. Segíts neki, hogy ne hibázzon!

		kisebb				nagyobb			
tízes	egyes			egyes	tízes			egyes	tízes
	<		<	4	9	<		<	
	<		<	6	3	<		<	
	<		<	8	0	<		<	



8. Mókus Marci az állatiskolában számolni tanul. Akkor kaphatja meg az áhított mogyorót, hogyha a 10 műveletből csak 3-at, vagy annál kevesebbet rontott el. Ellenőrizd le, hogy jól számolt-e! Tegyéél pipát a helyes eredményekhez!

$$30 + 20 = 50$$

$$40 + 10 - 20 = 20$$

$$60 + 40 = 90$$

$$90 - 80 + 40 = 50$$

$$50 - 30 = 20$$

$$70 + 20 - 10 = 80$$

$$100 - 40 = 60$$

$$0 + 60 + 20 = 70$$

$$40 + 50 = 90$$

$$40 + 30 + 30 = 100$$

Megkapta Mókus Marci a mogyorót?

