


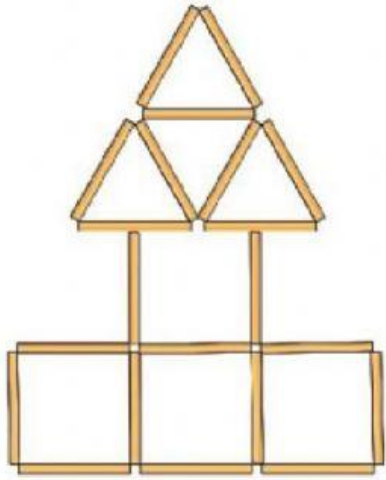


1. Có bao nhiêu hình tròn? Bao nhiêu hình vuông?
Bao nhiêu hình tam giác? Bao nhiêu hình chữ nhật?



2. Các que tính được xếp thành hình dưới đây.
Trong hình đó có bao nhiêu hình vuông?
Bao nhiêu hình tam giác?



Có bao nhiêu hình vuông,
hình tròn, hình tam giác,
hình chữ nhật?

a)



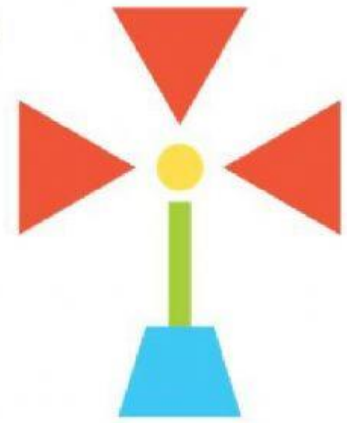
	Hình tròn	Hình chữ nhật	Hình tam giác	Hình vuông
a)	<input type="text"/>	<input type="text"/>	<input type="text"/>	<input type="text"/>



luyện tập


Có bao nhiêu hình vuông,
hình tròn, hình tam giác,
hình chữ nhật?

b)



	Hình tròn	Hình chữ nhật	Hình tam giác	Hình vuông
b)	<input type="text"/>	<input type="text"/>	<input type="text"/>	<input type="text"/>

Có bao nhiêu hình vuông, hình tròn, hình tam giác, hình chữ nhật?



	Hình tròn	Hình chữ nhật	Hình tam giác	Hình vuông
c)	<input type="text"/>	<input type="text"/>	<input type="text"/>	<input type="text"/>

4. Những hình nào không phải là hình vuông?

