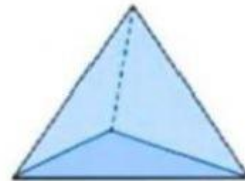
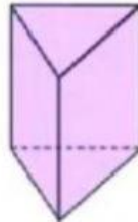



Nama Siswa :

Kelas :

Jawablah pertanyaan berikut dengan benar !

Dibawah ini manakah yang disebut balok ?



Berikut ini yang termasuk bangun ruang sisi datar adalah

PRISMA SEGI TIGA


KUBUS

TABUNG


BOLA

Segitiga yang memiliki sisi yang sama panjang disebut

Jodohkan bangun berikut dengan pernyataan yang sesuai !



PRISMA SEGI TIGA



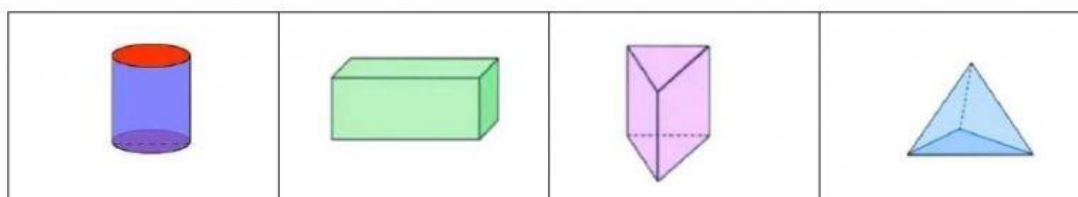
LIMAS SEGITIGA



TABUNG



BALOK



PRISMA SEGITIGA	TABUNG	BALOK	LIMAS SEGITIGA