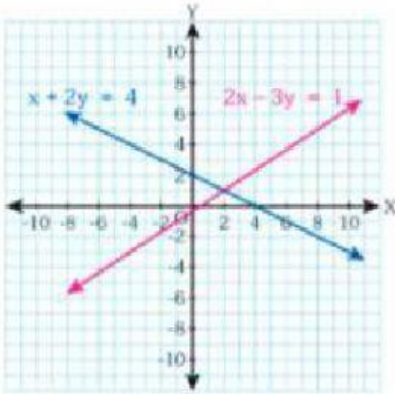


แบบฝึกหัดที่ 1

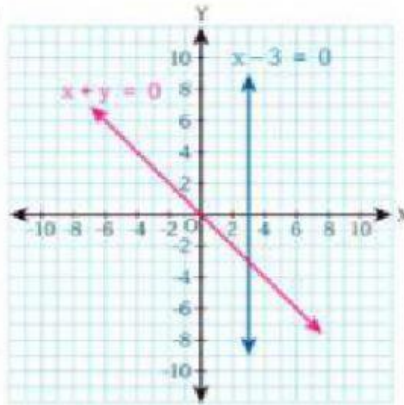
1. จากกราฟของระบบสมการเชิงเส้นสองตัวแปรต่อไปนี้ จงพิจารณาว่าแต่ละระบบสมการมีคำตอบหรือไม่ ในกรณีที่มีคำตอบเดียวให้ระบุคำตอบนั้น

1)



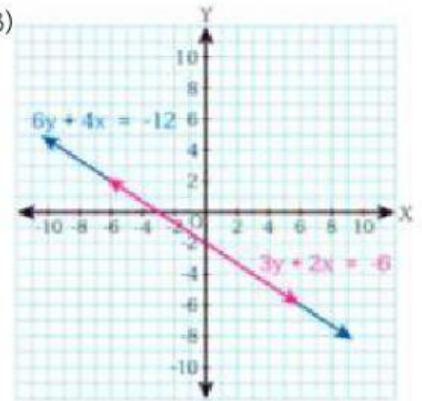
.....

2)



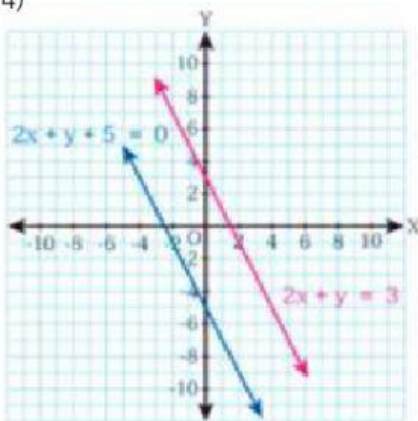
.....

3)



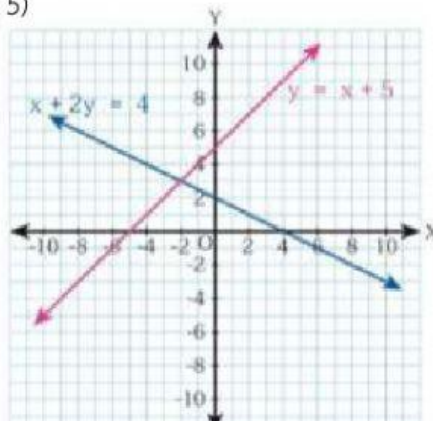
.....

4)



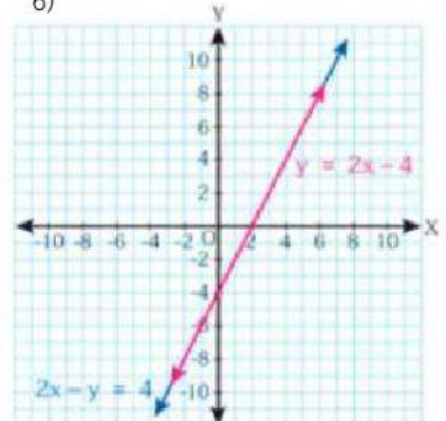
.....

5)



.....

6)



.....

ชื่อ..... ชั้น..... เลขที่.....