

Tên HS: .....

Lớp: .....

## ÔN TẬP TOÁN TUẦN 8

### Bài 1. Đặt tính rồi tính

$39 \times 3$

$46 \times 4$

$53 \times 5$

$48 \times 6$

$34 \times 4$

$28 \times 3$

.....

.....

.....

.....

.....

.....

.....

.....

.....

.....

.....

.....

.....

.....

.....

.....

.....

.....

### Bài 2. Khoanh vào chữ đặt trước câu trả đúng:

a)  $6 \times 7 + 128 = ?$

A. 160

B. 171

C. 170

b)  $23 \times 6 - 45 = ?$

A. 76

B. 93

C. 83

### Bài 3. Tìm X, biết:

$X + 6 = 102$

$X + 84 = 239$

$240 - X = 60$

$X - 6 = 54$

.....

.....

$6 \times X = 42$

$54 : X = 6$

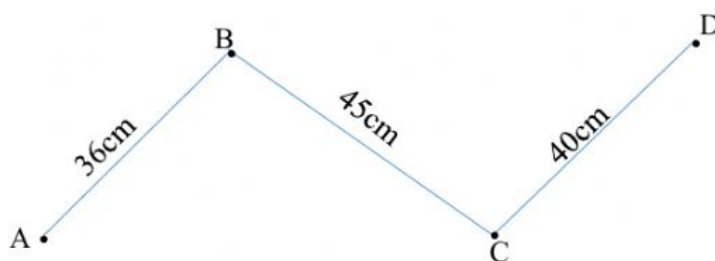
$X : 5 = 45$

$X \times 6 = 48$

.....

.....

### Bài 4. a) Tính độ dài đường gấp khúc ABCD:



A. 120cm

B. 121cm

C. 121dm

### b) Chu vi hình tam giác có độ dài ba cạnh lần lượt là: 20m; 12m; 8m:

A. 20m

B. 30m

C. 40m

**Bài 5: Điền dấu >; <; = vào chỗ chấm:**

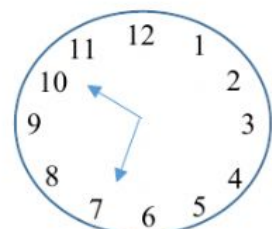
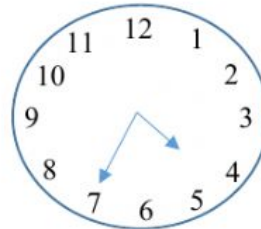
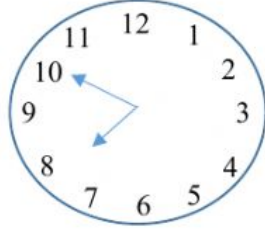
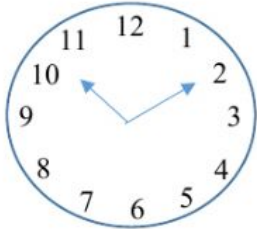
3 dm 3 cm ..... 303cm

4m2dm .....402dm

5m2cm ..... 520cm

405cm .....4m5cm

**Bài 7. Viết tiếp vào chỗ chấm cho thích hợp**



.....

.....

.....

.....

**Bài 6.** Một cửa hàng ngày thứ nhất bán được 735 lít xăng, ngày thứ hai bán được nhiều hơn ngày thứ nhất 151 lít xăng. Hỏi ngày thứ hai cửa hàng bán được bao nhiêu lít xăng?

Bài giải

.....  
 .....  
 .....

**Bài 7:** Thùng lớn chứa 876 lít nước, thùng bé chứa 120 lít nước. Hỏi cả hai thùng chứa bao nhiêu lít nước?

Bài giải

.....  
 .....  
 .....

**Bài 8: Quan sát hình bên và trả lời các câu hỏi:**

- a) Chu vi hình ABCD là: .....
- b) Chu vi hình DMNP là: .....
- c) Độ dài cạnh AP là: .....

