

LEMBAR KEGIATAN PESERTA DIDIK



BENZENA DAN TURUNANNYA

NAMA SISWA :

KELAS : NOMOR ABSEN:

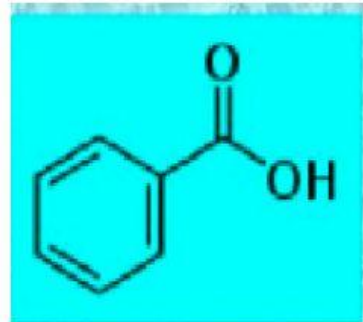
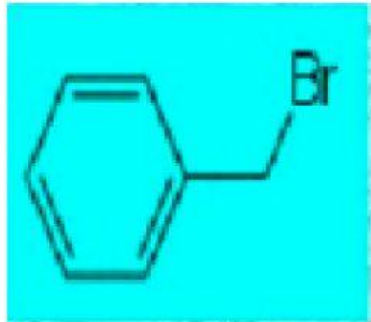
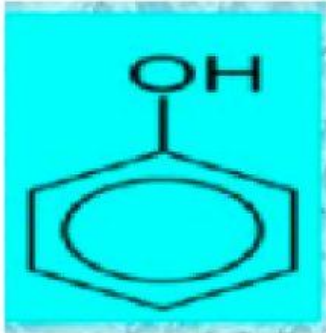
PELAJARI VIDEO BERIKUT INI !



Tatanama Senyawa Turunan Benzena

SOAL DROP DOWN

Pilihlah nama yang tepat dari rumus struktur turunan benzena berikut!



Soal Menjodohkan

Gabungkan pernyataan A dengan Pernyataan B yang merupakan bahan yang ada disekitar kalian dengan kandungan benzena nya berikut ini dengan tepat!

PERNYATAAN A

1. Asam Benzoat
2. Fenol
3. Trinitro Toluena (TNT)

PERNYATAAN B

1. Desinfektan
2. Pengawet makanan
3. Bahan peledak

SOAL DRAG AND DROP

Susunlah nama senyawa turunan benzena dengan mengurutkan ketiga kotak dibawah ini dengan tepat!

ASAM

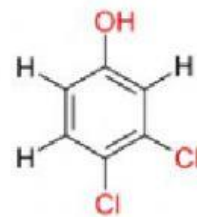
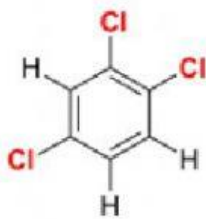
Benzoat

O - hidroksi



SOAL DRAG AND DROP

Pasangkan nama senyawa turunan benzena berikut ini dengan namanya



Asam 3,5 dinitrobenzoat

3,4 dikloro fenol

1,3,5 trikloro