



Panjang dan pendek

Amati dan cermati lalu bandingkan


Manakah ulat yang lebih panjang?



Manakah nyamuk yang lebih pendek?



Manakah belalang yang lebih pendek?



Manakah lalat yang lebih panjang?

