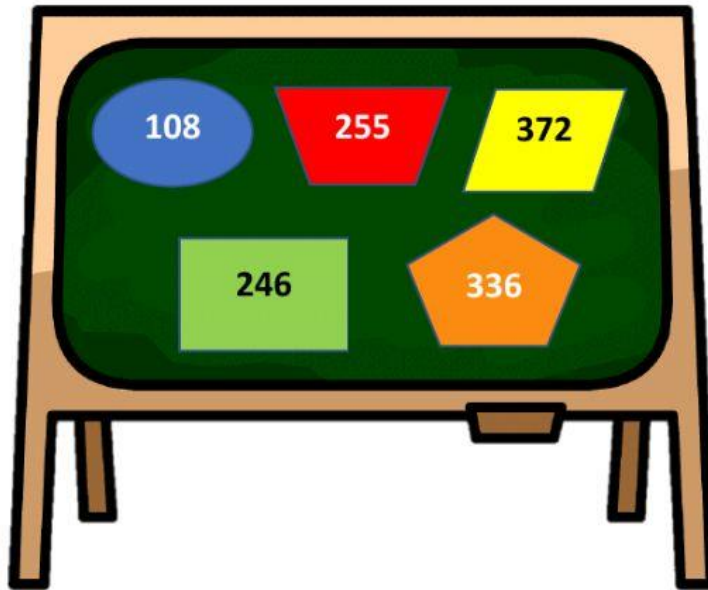






















## SOAL LATIHAN AKM NUMERASI 5

Perhatikan gambar kartu-kartu bilangan berikut!



1. Kartu bilangan tersebut bila diurutkan dari bilangan terkecil adalah . . .

- A.     
- B.     
- C.     
- D.     

2. Buah merupakan asupan bergizi yang dibutuhkan oleh tubuh kita. Pada saat kita membeli buah, salah satu hal yang dilakukan adalah buah tersebut ditimbang untuk mengetahui beratnya.



Pilihlah pernyataan yang benar berikut ini!

- ☐ Buah semangka lebih berat dari buah jeruk dan apel
- ☐ Buah jeruk dan apel lebih ringan dari buah anggur
- ☐ Buah semangka lebih ringan dari buah anggur, jeruk, dan apel
- ☐ Buah anggur lebih berat dari buah jeruk dan apel

Perhatikan gambar berikut!




3. Berapa meter jarak dari SDn Cemara ke Pasar Gede?

- A. 10.000 m
- B. 4.000 m
- C. 1.000 m
- D. 400 m

4. Berapa kilometer jarak dari bank Swadaya ke Pasar Gede?

- A. 0,25 km
- B. 2,5 km
- C. 25 km
- D. 159 km

Perhatikan gambar di bawah ini!



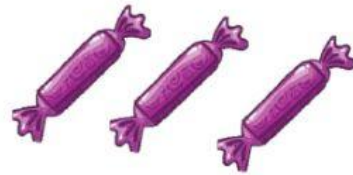
**Rp 3000,00**

**Permen Jeruk**



**Rp 3000,00**

**Permen Lolipop**



**Rp 3000,00**

**Permen Anggur**

5. Manakah pernyataan yang benar? (Jawaban lebih dari satu)

- ☐ Harga satu buah permen jeruk Rp 600,00
- ☐ Harga dua buah permen lolipop Rp 5.000,00
- ☐ Dengan Rp 6.000,00 akan mendapat 6 buah permen anggur
- ☐ Dengan Rp 6.000,00 akan mendapat 10 permen jeruk
- ☐ Harga tiga buah permen lolipop seharga Rp 6.000,00