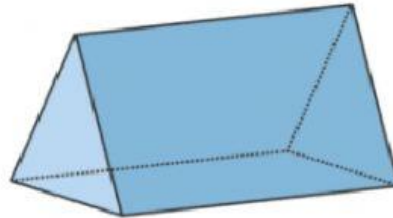

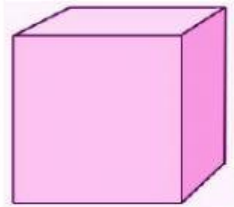


**BELAJAR MEMBUAT SOAL DI LIVE WORKSHEET  
(BELAJAR MATEMATIKA)**

**1 Pilihan Ganda**

**Berikut ini yang termasuk gambar balok adalah ....**



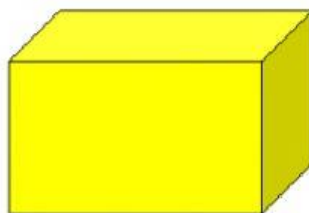
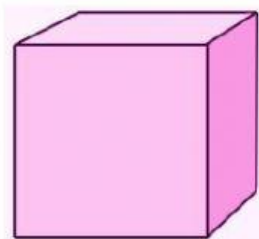
**2 Isian singkat/essai**



**Nama bangun di samping adalah .....**

**Jelaskan apa yang kamu ketahui tentang gambar di samping!**

**3 Drop Down**



## 4 Check Box

Berikut ini yang merupakan gambar bangun ruang adalah .....

Lingkaran

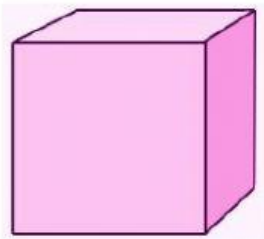
Kerucut

Balok


Persegi

## 5 Join Arrow

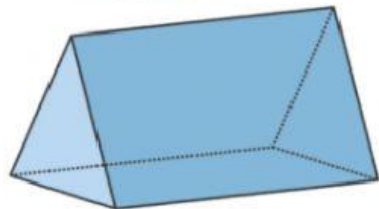
Jodohkan antara gambar dan nama bangun dengan cara menarik garis penghubung!



Prisma



Kerucut








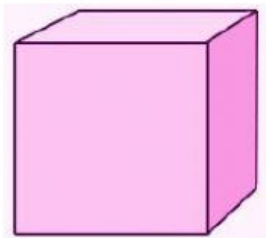
Bola



Kubus

## 6 Drag and Drop

Tarik gambar berikut ke dalam kotak yang sesuai!



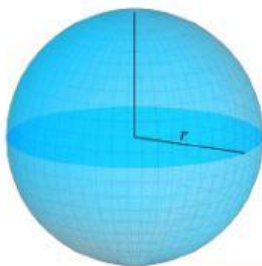
**Balok**

**Kubus**

**Kerucut**

## 7 Listening

Dengarkan suaranya, dan pilih benar atau salah!



**Benar**

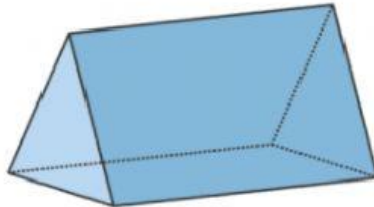
**Salah**

**Benar**

**Salah**

## 8 Speaking

Rekam suaramu untuk menyebutkan nama bangun berikut dengan cara menekan tombol rekam!



## 9 Word Search

Carilah nama-nama bangun ruang!

A	B	A	L	I	N	G	U
T	A	P	U	T	R	R	O
P	L	P	R	I	S	M	A
B	O	C	D	K	E	F	G
L	K	E	R	U	C	U	T
O	O	T	A	B	U	N	G
K	L	U	I	U	J	I	H
L	I	M	A	S	K	U	I