

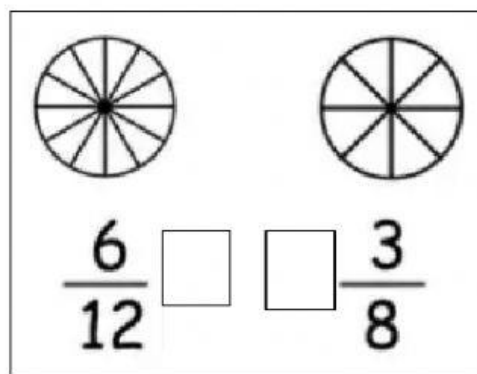
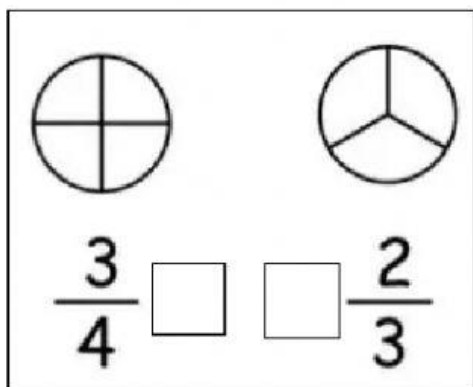
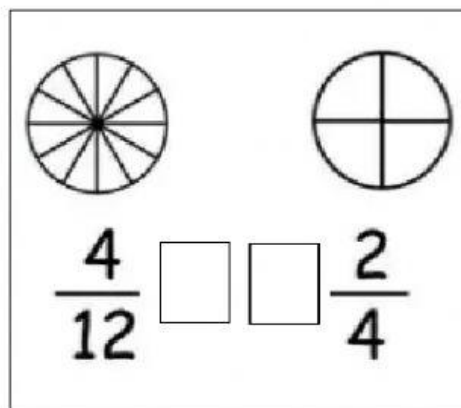
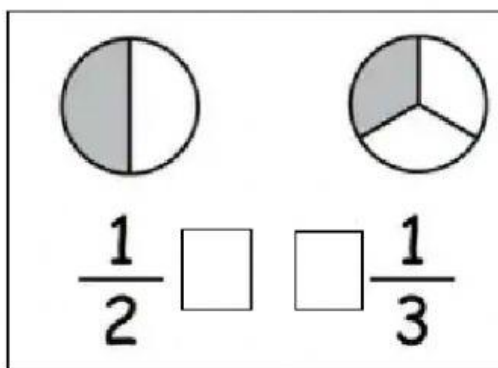


## CENTRO EDUCACIONAL KÍSSILA NEVES

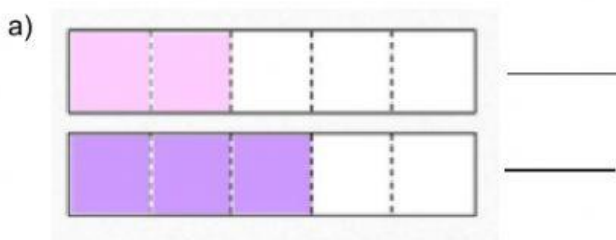
Aluno(a): \_\_\_\_\_  
Turma: 401 e 402 Data: \_\_\_\_/\_\_\_\_/2021  
Disciplina: Matemática Professora: \_\_\_\_\_

### Atividade Complementar

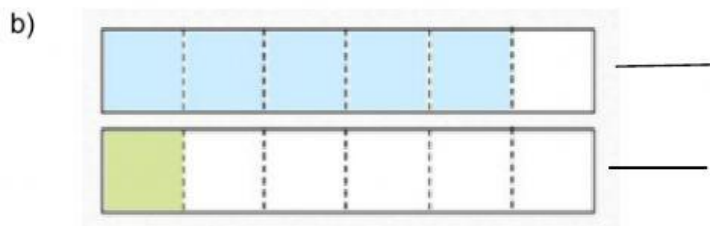
1. Vamos comparar as frações? Pinte e depois marque a fração maior.



2. Observe as imagens, complete com as frações correspondentes e depois responda:



Qual fração é maior? \_\_\_\_\_



Qual fração é maior? \_\_\_\_\_



Já sei.

Tenho que praticar.



Ainda não sei.

