





Tên _____
Lớp: 1.




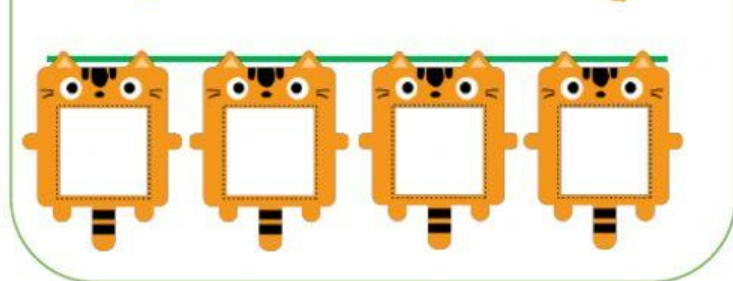
Luyện tập Toán
Số 8

1. Số?


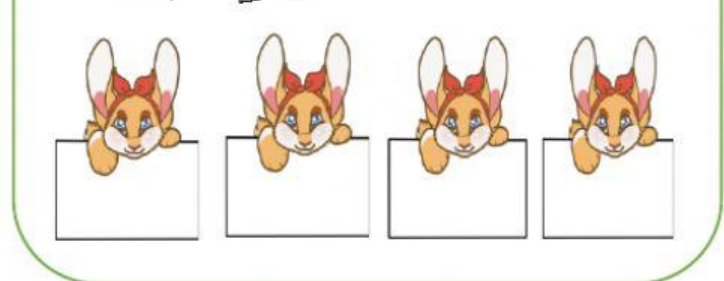



2. Viết các số theo thứ tự :

a. Từ **bé** đến lớn

b. Từ **lớn** đến bé

3.a) Chọn số lớn nhất:

6 8 3

0 5 7

b) Chọn số bé nhất:

1 8 4

6 0 2

4. Số?

$\square > 7$

$8 = \square$

$1 < \square$

$3 < \square$

$5 > \square$


$\square = 6$

5. Số?



a) Có quả táo màu đỏ và quả táo màu xanh.

$\square > \square$



b) Có quả chuối màu vàng và quả chuối màu xanh.

$\square = \square$

6. Số?

