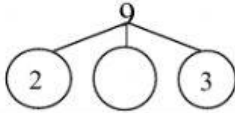
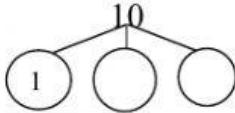
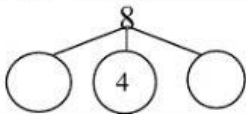
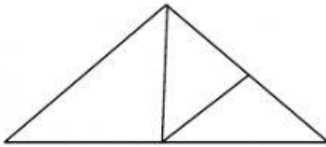




Họ và tên:
 Lớp: 1A.....

PHIẾU ÔN TẬP TOÁN VIOLYMPIC
VÒNG 3

HỌC SINH CHỈ CẦN GHI KẾT QUẢ VÀO CỘT ĐÁP SỐ.

| TT | Nội dung bài toán | | Đáp số |
|----|-------------------|--|--------|
| 1 | Số? | $8 < \dots < 10$ | |
| 2 | $> ; < ; = ?$ | $7 \dots 9$ | |
| 3 | Số lớn nhất? | 5, 6, 10, 8 | |
| 4 | Số? | 6, 7, 8, | |
| 5 | $> ; < ; = ?$ | $5 \dots 7 \dots 8$ | |
| 6 | Số? | $9 > \dots > 5$ | |
| 7 | $> ; < ; = ?$ | $7 \dots 5 \dots 4$ | |
| 8 | Số? |, 9, 8, 7 | |
| 9 | Số? | 3, 5, 7, | |
| 10 | Số? | 9, 7, 5, | |
| 11 | Số? | 4, 6, 8, | |
| 12 | Số? | 6, 4, 2, ... | |
| 13 | Số lớn nhất? | 7, 5, 8, 9 | |
| 14 | $> ; < ; = ?$ | $9 \dots 8 \dots 7$ | |
| 15 | Số bé nhất? | 8, 9, 6, 5 | |
| 16 | Số bé nhất? | 8, 6, 9, 4 | |
| 17 | Số? |  | |
| 18 | Số? |  | |
| 19 | Số? |  | |
| 20 | $\triangle ?$ |  | |