

A. Tentukan segi banyak di bawah ini berdasarkan jumlah sisinya!



.....




.....



.....




.....



.....



.....




.....



.....

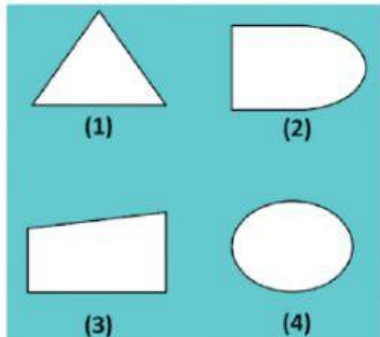


.....

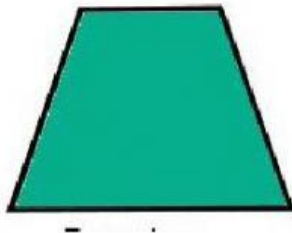


.....

B. Tentukan segi banyak di bawah ini berdasarkan jumlah sisinya!




1. Bangun segi banyak pada gambar di samping ditunjukkan oleh nomor dan



2. Banyak sisi pada bangun segi banyak di samping adalah

3. Berdasarkan banyak sisinya, segi banyak di bagi menjadi dan



4. Banyak sisi pada bangun segi banyak di samping adalah

5. Salah satu ciri-ciri bangun segi banyak beraturan adalah