

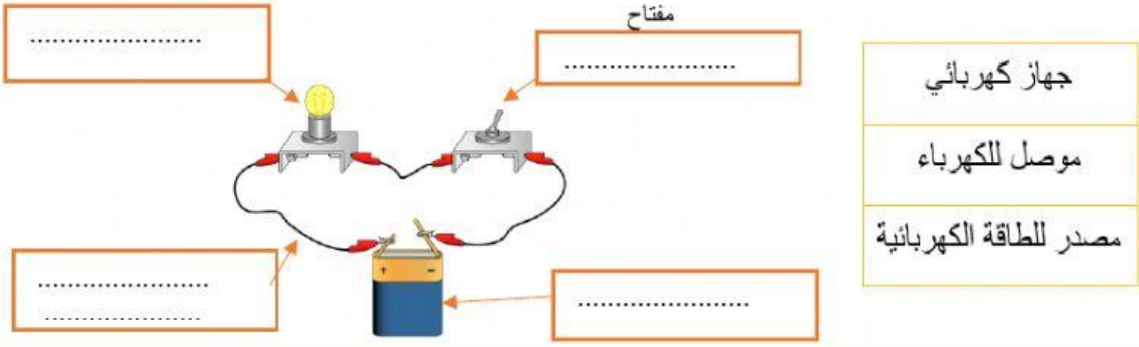


الهدف	ما الأجزاء التي تتألف منها دائرة كهربائية بسيطة؟
رقم الغرفة	الثامن /
رابط التجربة الافتراضي	https://phet.colorado.edu/sims/html/circuit-construction-kit-dc-virtual-lab/latest/circuit-construction-kit-dc-virtual-lab_en.html

أسماء أعضاء المجموعة (يجب كتابة امام الطالبة التي لا تشارك غياب)

-1	-3	-5	-7
-2	-4	-6	-8

خطوات العمل

الزمن	المهمة
5 د	1. استخدم الرابط الذي أعطتك إياها المعلمة لبناء دائرة كهربائية بسيطة.
1 د	2. قم بفتح المفتاح، ماذا يحدث للمصباح؟  <p>a. يبقى المصباح مضيء. b. ينطفئ المصباح.</p>
1 د	3. فسر أجبانتك للسؤال السابق؟  <p>a. لأن الدائرة صارت مفتوحة. b. لأن الدائرة صارت مغلقة.</p>
2 د	4. ما دلالة كل جزء في الدائرة الكهربائية؟  <p>مفتاح</p> <p>جهاز كهربائي موصل للكهرباء مصدر للطاقة الكهربائية</p>
2 د	5. رابط تقييم العمل الجماعي اضغط هنا