

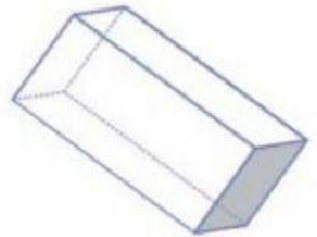

# Tugas matematika

## Rabu, 27 Oktober 2021


Nama/nomor:  Kelas:

**Pilihlah gambar bangun ruang yang sesuai, dengan cara klik pada pilihan gambarnya.**


**Pilihlah gambar yang berbentuk balok**



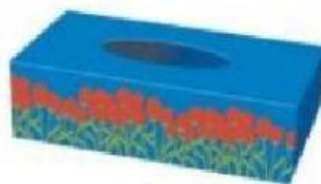
**Pilihlah gambar yang berbentuk kubus**





**Pilihlah gambar yang berbentuk bola**



**Pilihlah gambar yang berbentuk tabung**



**A. Tuliskanlah nama dari bangun datar dan bangun ruang yang sesuai dengan gambar.**



**B. Pilihlah jawaban “Benar atau Salah” yang tersedia pada kotak**

1. Alas dari kubus berbentuk persegi.

2. Alas dari tabung berbentuk segitiga.

3. Bola memiliki titik sudut



**C. Isi dengan Gambar Benda yang sama dengan Bangun Ruang Disamping!  
Pindahkan Gambar Bangun Ruang Ke Dalam Kotak!**

