



Lembar Kegiatan Peserta Didik

Nama :

Kelas :



Klasifikasi Jamur

1. Tuliskan ciri-ciri dari masing-masing divisi fungi dibawah ini!

Zygomycota	→	
Ascomycota	→	
Basidiomycota	→	
Deuteromycota	→	

2. Jodohkanlah pernyataan dan jawaban di bawah ini!

1. sel-sel penyusun tubuh jamur makroskopis memanjang membentuk benang
2. hifa bercabang-cabang membentuk jaringan-jaringan
3. Alat perkembangbiakan jamur baik seksual maupun aseksual

Spora
Miselium
Hifa

3. Pasangkanlah masing-masing keterangan pada gambar dibawah ini!



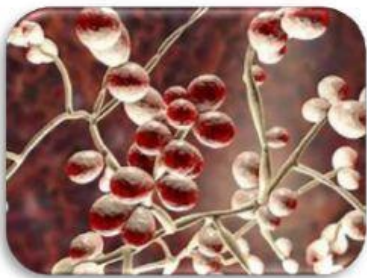
Nama Divisi :

Nama Spesies :




Nama Divisi :

Nama Spesies :



Nama Divisi :

Nama Spesies :



Nama Divisi :

Nama Spesies :

Zigomycota

Ascomycota

Basidiomycota

Deuteuromycota

Rhizopus sp.

Saccharomyces sp.


Pleurotus sp.

Candida albicans



Simbiosis Jamur dengan Organisme Lain

4. Bacalah dan isilah pertanyaan di dibawah ini!



Gambar disamping adalah **Liken (lumut kerak)**, bukan lumut tetapi gabungan antara 2 macam organisme yang hidup bersimbiosis mutualisme, yaitu jamur dengan....



Gambar disamping adalah Mikoriza, merupakan bentuk simbiosis mutualisme antara jamur dengan



Peranan Jamur

5. Jodohkanlah peranan jamur yang menguntungkan dan merugikan dibawah ini!

Rhizopus oryzae

Saccharomyces cereviciae

Aspergillus wentii

Candida albicans

Untuk membuat kecap dan tauco

Jamur penyebab keputihan pada wanita

Untuk membuat tempe

Untuk membuat tape (peuyeum)