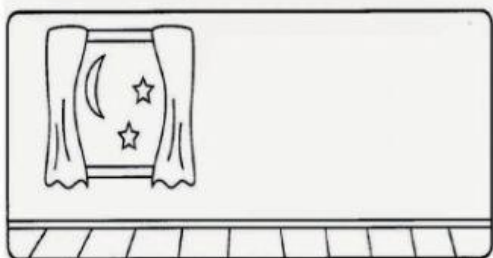



ESCOLA: _____
NOME: _____ TURMA: _____

1. OBSERVE BEM AS IMAGENS ABAIXO E LIGUE CORRETAMENTE DE ACORDO COM AS ATIVIDADES QUE FAZEMOS DURANTE O DIA E À NOITE:



Disponível em: <https://i.pinimg.com/originals/5e/90/73/5e9073f561998ab44d3c1e53720d3521.png>. Acesso em: 13 jun. 2021.

2. OS SERES HUMANOS ORGANIZAM SUAS ATIVIDADES DE ACORDO COM OS PERÍODOS DO DIA. OBSERVE AS ILUSTRAÇÕES ABAIXO E DEPOIS MARQUE COM UM X A OPÇÃO CORRETA:



Disponível em: <https://i.pinimg.com/564x/e0/cc/26/e0cc26afd606d33d4f70e5f837910449.jpg>. Acesso em: 13 junho 2021.

A- NO PERÍODO DA MANHÃ O MENINO:

() ACORDOU. () BRINCOU () TOMOU BANHO.

B- NO PERÍODO DA TARDE, O MENINO:

() ESTUDOU. () ACORDOU. () ALMOÇOU.

C- NO PERÍODO DA NOITE, O MENINO:

() ALMOÇOU () FOI DORMIR. () TOMOU BANHO.

3. OBSERVE AS IMAGENS ABAIXO E ESCRVA O NOME DAS ESTAÇÕES CORRESPONDENTE:

PRIMAVERA

VERÃO

OUTONO

INVERNO











4. EM QUAL DAS ESTAÇÕES ABAIXO NÓS ESTAMOS? MARQUE UM X:



PRIMAVERA



VERÃO



OUTONO



INVERNO

Disponível em: <https://i.pinimg.com/originals/e7/37/b6/e737b60aac57926f340560a890aeeca6.jpg>. Acesso em: 19 jul. 2021.

5. MARQUE UM X NAS ROUPAS APROPRIADAS PARA O VERÃO:

