











CIRCUNFERENCIA Y CÍRCULO

1. Selecciona los círculos

				
<input type="checkbox"/>	<input type="checkbox"/>	<input type="checkbox"/>	<input type="checkbox"/>	<input type="checkbox"/>

2. Selecciona las circunferencias

				
<input type="checkbox"/>	<input type="checkbox"/>	<input type="checkbox"/>	<input type="checkbox"/>	<input type="checkbox"/>

3. Identifica los elementos de la circunferencia.

Semicircunferencia Radio Arco Centro Diámetro Cuerda

