

<b>ESCOLA MUNICIPAL CONSELHEIRO JOSINO</b>	
<b>LABORATÓRIO DE TECNOLOGIAS DIGITAIS</b>	
<b>PROFESSORA:</b> Andréa Jardim	<b>DATA:</b>
<b>ALUNO (A):</b>	<b>TURMA:</b> 2º ano
<b>CAMPO DO CONHECIMENTO:</b> Matemática	<b>CÓDIGO:</b> EF01CI05
<b>HABILIDADES:</b> Ordenar números naturais ( até a ordem das dezenas) pela compreensão de características do sistema de numeração decimal ( valor posicional e função do zero)	

## AGRUPAMENTO DE 10

- *OBSERVE OS VASOS DE GIRASSÓIS. ARRASTE-AS AGRUPANDO DE 10 EM 10.*



--	--	--

- **AGORA RESPONDA:**

- QUANTOS GRUPOS VOCÊ FORMOU?

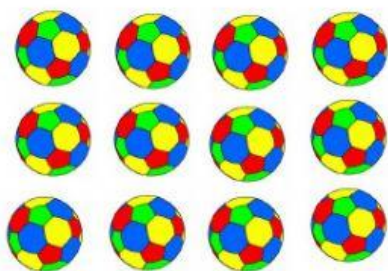
- SOBROU ALGUM GIRASSOL?

SIM

NÃO


- QUANTOS GIRASSÓIS SOBRARAM ?

● EM UMA LOJA VENDE DIFERENTES TIPOS DE BRINQUEDOS. CONTE- OS DE 10 EM 10 E REGISTRE.



GRUPO 10

E SOBRARAM



GRUPO 10


E SOBRARAM





GRUPO 10


E SOBRARAM

- CONTE OS PERSONAGENS DA TURMA DA MÔNICA DE 10 EM 10. E VEJA QUANTOS VÃO SOBRAR. COMPLETE CADA QUADRO Q.V. L. E ESCREVA O NÚMERO QUE VOCÊ FORMAR POR EXTENSO.


	<table border="1"> <tr> <td>D</td> <td>U</td> </tr> <tr> <td> </td> <td> </td> </tr> </table>	D	U			<hr/> <hr/> <hr/>
D	U					

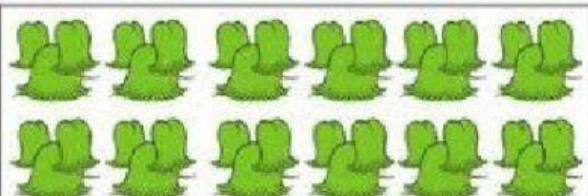
	<table border="1"> <tr> <td>D</td> <td>U</td> </tr> <tr> <td> </td> <td> </td> </tr> </table>	D	U			<hr/> <hr/> <hr/>
D	U					

	<table border="1"> <tr> <td>D</td> <td>U</td> </tr> <tr> <td> </td> <td> </td> </tr> </table>	D	U			<hr/> <hr/> <hr/>
D	U					

	<table border="1"> <tr> <td>D</td> <td>U</td> </tr> <tr> <td> </td> <td> </td> </tr> </table>	D	U			<hr/> <hr/> <hr/>
D	U					

	<table border="1"> <tr> <td>D</td> <td>U</td> </tr> <tr> <td> </td> <td> </td> </tr> </table>	D	U			<hr/> <hr/> <hr/>
D	U					

	<table border="1"> <tr> <td>D</td> <td>U</td> </tr> <tr> <td> </td> <td> </td> </tr> </table>	D	U			<hr/> <hr/> <hr/>
D	U					

	<table border="1"> <tr> <td>D</td> <td>U</td> </tr> <tr> <td> </td> <td> </td> </tr> </table>	D	U			<hr/> <hr/> <hr/>
D	U					