
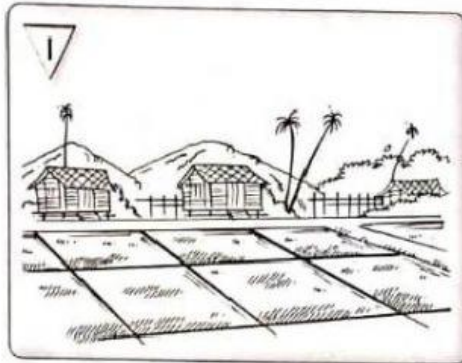


Padankan jenis tanah yang sesuai berdasarkan gambar tersebut.

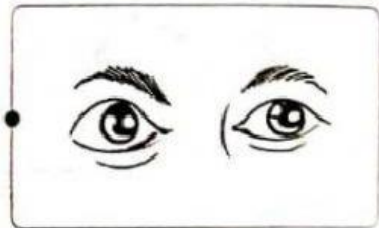
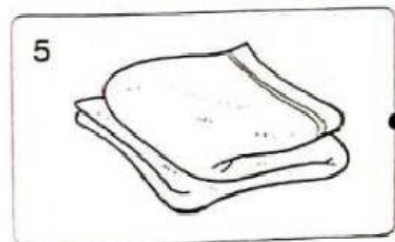
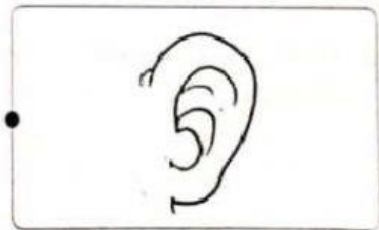
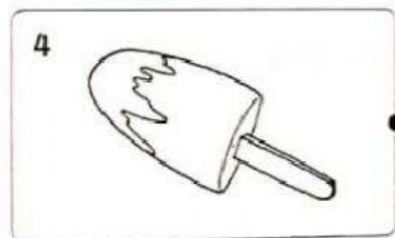
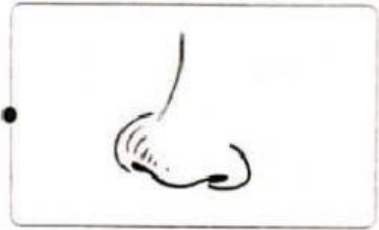
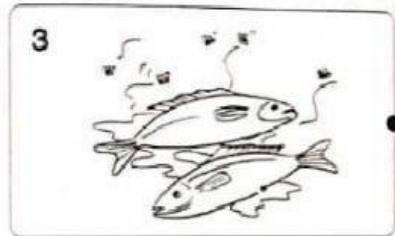
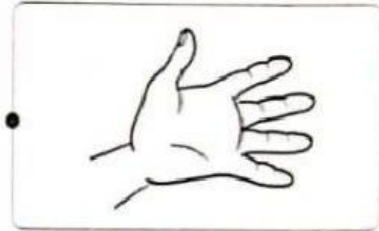
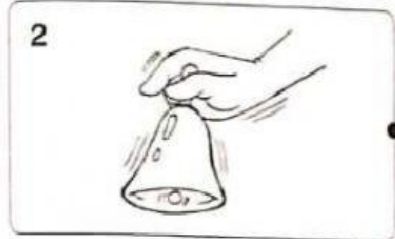

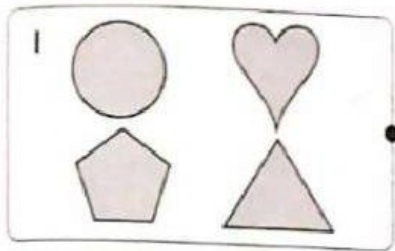


Tanah liat

Tanah kebun

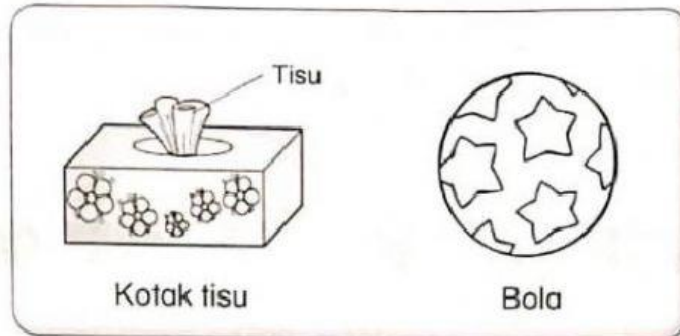
Pasir

Padankan bagian tubuh yang digunakan untuk menentukan ciri objek berikut.



Perhatikan objek berikut.

4



Tandakan (✓) pada jawapan yang betul.

1 Kotak tisu berbentuk

kuboid

kubus

2 Bola berbentuk

sfera

silinder

3 Objek manakah yang menyerap air?

Tisu

Bola

4 Objek manakah yang akan bergerak laju apabila ditolak di atas lantai?

Kotak tisu

Bola

Nyatakan bentuk komunikasi bagi setiap situasi di bawah.

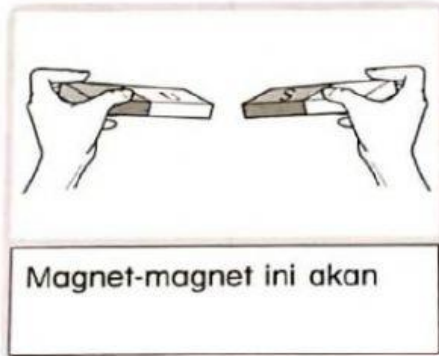
Lakaran

Tulisan

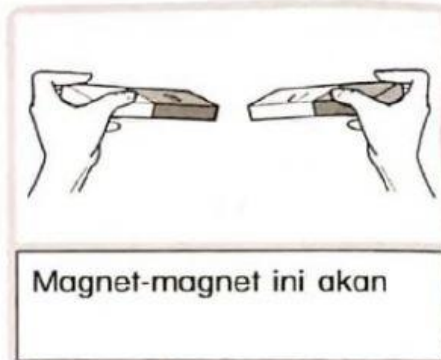
Lisan



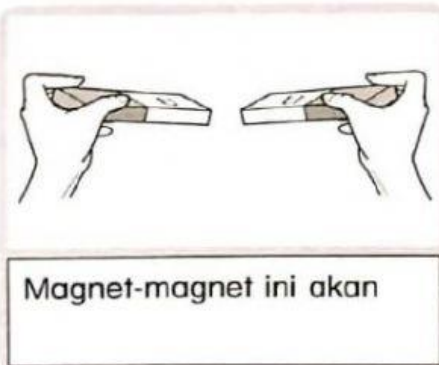
Tuliskan pada ruangan di bawah sama ada magnet yang ditunjukkan **tertarik** atau **menolak** antara satu sama lain.




(a)



(b)



(c)



Isi tempat kosong dengan deria yang betul.

Pendengaran

rasa

penglihatan

bau

sentuhan

1. Deria  digunakan untuk mengesan bunyi.

2. Deria  digunakan untuk mengesan rasa manis, masam, pahit dan masin.

3. Deria  digunakan untuk mengesan permukaan licin atau kasar.

4. Deria  digunakan untuk mengesan bau busuk atau wangi.

5. Deria  digunakan untuk mengesan warna dan bentuk.