

Trường: Tiểu học

Lớp:

Họ và tên:

ÔN TẬP KIỂM TRA CHKI

TỜ 1.1

1. Nối ô chữ cho phù hợp với hình ảnh

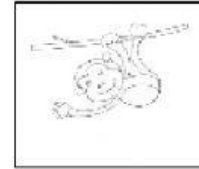


cây kem

học bài

leo trèo

mãng cụt



2.

a/ Nối ô chữ cho phù hợp: (1,5 điểm)

Lạc đà

đi qua sa mạc.

Mẹ

xếp hàng ngay

Các bạn

đi chợ mua thịt và

b/ Dựa vào câu nối trên, em hãy hoàn thành câu sau:

Lạc đà

3.

a. Điền **ng** hay **ngh**?

hoaũ sắc

lãnge

b. Điền **ước** hay **ực**?



trang s..'...



n...'... đá

Trường: Tiểu học

Lớp:

Họ và tên:

ÔN TẬP KIỂM TRA CHKI

TỜ 1.1

I. TRẮC NGHIỆM

Câu 1: Số 7 đọc là:

- a. bảy b. Sáu c. hai

Câu 2: Kết quả của $10 - 5 = \dots$ là:

- a. 5 b. 6 c. 7

Câu 3: Trong các số từ 2 đến 9 số nhỏ nhất là:

- a. 9 b. 7 c. 2

Câu 4: Biển báo giao thông nguy hiểm có dạng hình gì?

- a. Hình vuông
b. Hình chữ nhật
c. Hình tam giác



Câu 5: Cho $5 \dots 9$. Dấu cần điền là:

- a. > b. < c. =

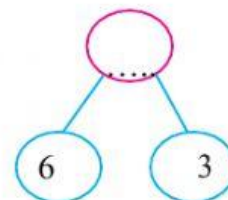
Câu 6: điền vào chỗ chấm là: 2, ..., 4, ..., 6.

Câu 7: Số? 

- a. 9 b. 5 c. 4

Câu 8: Điền số thích hợp vào chỗ chấm:

- a. 3 b. 6 c. 9



Câu 9: Có mấy biển báo hình tam giác?

a. 3

b. 4

c. 5



II. TỰ LUẬN

Câu 10: Tính: (1 điểm)

$8 + 2 = \dots$

$9 - 3 + 2 = \dots$

$10 - 6 = \dots$

$0 + 7 - 2 = \dots$

Câu 11: Xếp các số 10, 4, 7, 3, 8, 2 theo thứ tự:

a/ Từ lớn đến bé:.....

b/ Từ bé đến lớn:.....

Câu 12: Quan sát tranh.

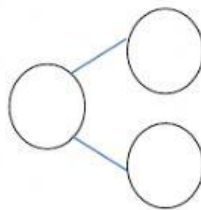


Số?

Có tất cả: quả bóng

Bay đi: quả

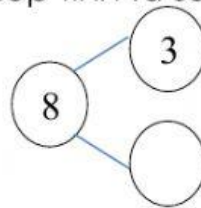
Còn lại: quả



Câu 13: Hoàn thành sơ đồ và viết hai phép tính từ sơ đồ tách – gộp.

.....

.....



Câu 14: Hình bên có:

..... hình vuông

..... hình tam giác

