



La division et la multiplication



1. Relie le dessin à son opération :

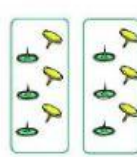
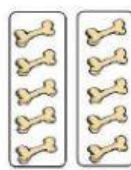

$6 : 2$

$10 : 2$

$9 : 3$

$12 : 4$

$12 : 2$



2×5

2×6

3×3

4×3

2×3

2. Résous ces calculs. Vérifie, puis écris-les dans ton cahier.

$2 \times 5 =$

$10 : 2 =$

$3 \times 2 =$

$6 : 3 =$

$2 \times 4 =$

$8 : 2 =$

$1 \times 10 =$

$10 : 1 =$

