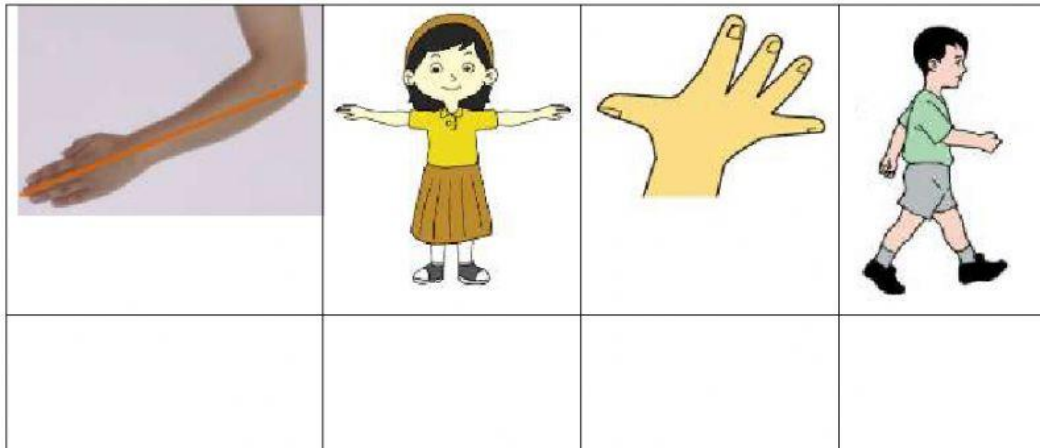


KD 4.2

16. Pasangkan nama satuan tidak baku dengan gambarnya! (poin 4)



Jengkal Langkah Depa Hasta

17. Tuliskan hasil pengukuran panjang dari gambar berikut! (poin 10)



a.

Panjang guling =



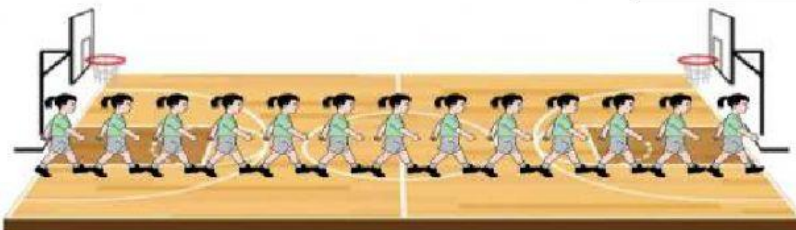
b.

Panjang pagar =



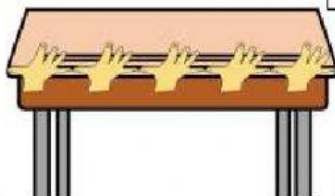
c.

Panjang sapu =



d.





Panjang lapangan basket =












e.

Panjang meja =

18. Pasangkan gambar alat ukur berikut dengan namanya! (poin 5)

		METERAN PITA
		JANGKA SORONG
		METERAN ROL KECIL
		MISTAR
		METERAN ROL BESAR

19. Pilihlah gambar benda berikut yang cocok diukur dengan penggaris! (poin 5)

20. Tuliskan hasil pengukuran panjang dari gambar berikut! (poin 6)



a.

Panjang celengan =



b.

Panjang remot =



b.

Panjang sepatu =

Selamat Mengerjakan

Mengetahui,
Kepala SDLB B Pangudi Luhur

Drs. Bonaventura Subagyo

Jakarta, 14 Oktober 2021
Guru Kelas 2A

Y. Sincara Favoury, S. Pd.