



حدد اسم الشكل المجاور

1- الهرم

2- المخروط

3- الأستوانة

4- المنشور الرباعي




حدد اسم الشكل المجاور

1- الهرم

2- المخروط

3- الأستوانة

4- المنشور الرباعي




حدد اسم الشكل المجاور

1- الهرم

2- المخروط

3- الأستوانة

4- المنشور الرباعي



حدد اسم الشكل المجاور

1- الهرم

2- المخروط

3- الأسطوانة

4- المنشور الرباعي


حدد اذا ما كان الشكل الهندسي التالي ثنائي ام ثلاثي الأبعاد



ثنائي الأبعاد

ثلاثي الأبعاد

حدد اذا ما كان الشكل الهندسي التالي ثنائي ام ثلاثي الأبعاد



ثنائي الأبعاد

ثلاثي الأبعاد

حدد اذا ما كان الشكل الهندسي التالي ثنائي ام ثلاثي الأبعاد



ثنائي الأبعاد

ثلاثي الأبعاد

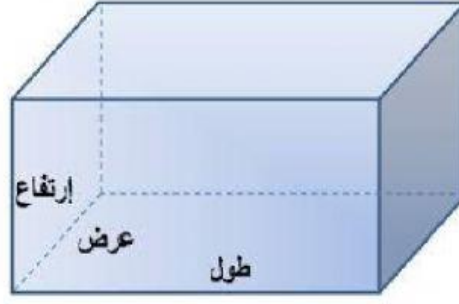
حدد اذا ما كان الشكل الهندسي التالي ثنائي ام ثلاثي الأبعاد



ثنائي الأبعاد

ثلاثي الأبعاد

حدد نوع المنشور التالي :



ثلاثي

رباعي

خماسي