
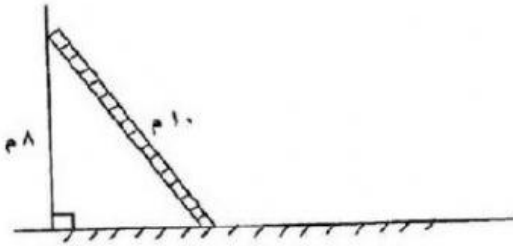


٢ - ٦ تطبيقات على نظرية فيثاغورس


يلعب عمر بطائرته الورقية كما هو موضح في الشكل المجاور ، أوجد قيمة س؟



في الشكل المجاور ، يستند سلم إلى حائط ، أوجد المسافة بين أسفل السلم والحائط .



في الشكل المرسوم ، أوجد ارتفاع الطائرة الورقية (ع)



أوجد عمق الماء (ق) في الشكل المجاور .

