


PHÉP TRỪ TRONG PHẠM VI 20

Cô Dư Thanh Mai - 0327561686

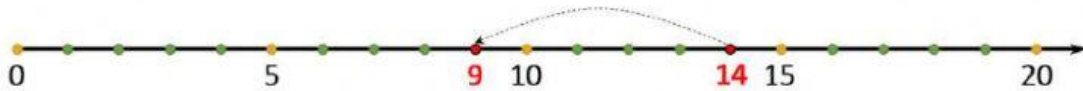
Câu 1. Chọn củ cà rốt ghi số là kết quả của phép tính $20 - 8$



Câu 2. Số bị trừ là 13, số trừ là 5. Hiệu là

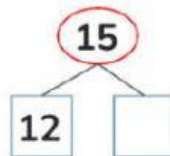
$$\boxed{13} - \boxed{5} = \boxed{}$$

Câu 3. Cho tia số:

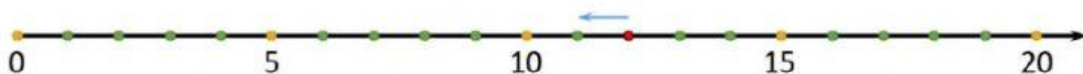


Từ vị trí của số 14 trên tia số, cần di chuyển về bên trái qua số để đến được vị trí của số 9.

Câu 4. Điền số thích hợp vào ô trống.



Câu 5. Từ vị trí của số 12, di chuyển sang trái qua 8 số thì đến được vị trí của số nào ?



A. 5

B. 4

C. 3

D. 2

Câu 6. Trong các phép tính sau, chọn phép tính có kết quả là 6.


$$\boxed{12 - 5}$$

$$\boxed{14 - 7}$$

$$\boxed{13 - 7}$$

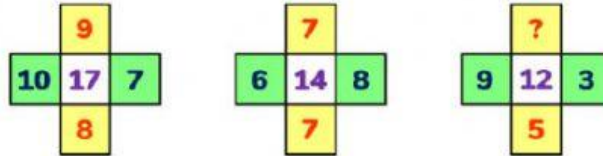
$$\boxed{20 - 10}$$

Câu 7. Huyền gấp được 15 bông hoa, Yến gấp được 8 bông hoa.



Huyền gấp được nhiều hơn Yến bông hoa.

Câu 8. Số thích hợp thay cho dấu “?” trong hình dưới đây là số



Câu 9. Năm nay anh 13 tuổi, em 7 tuổi.

$$13 - 7 = \square$$

Em kém anh tuổi.

Câu 10. Bé gieo 20 hạt đậu vào đất. Đã có 5 hạt nảy mầm.

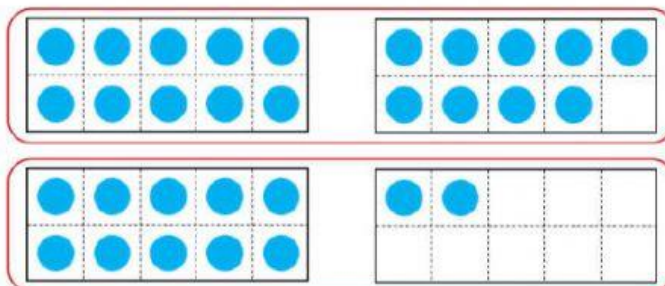


$$20 - 5 = \square$$

Còn hạt đậu chưa nảy mầm.

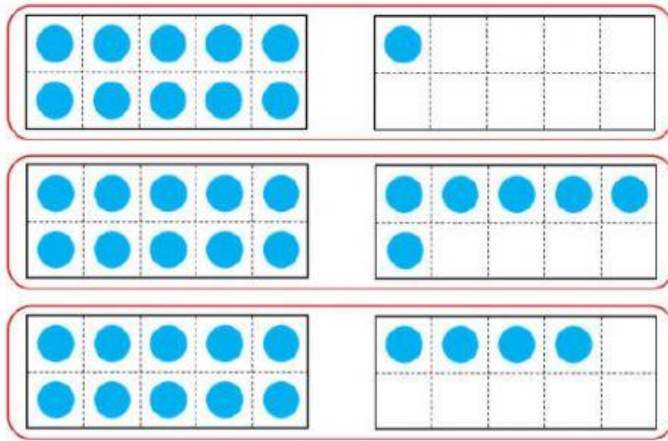
Phần tự luận

Bài 1. Thực hiện phép tính.



$19 - 9 = \dots\dots$

$12 - 8 = \dots\dots$



$11 - 5 = \dots\dots$

$16 - 8 = \dots\dots$

$14 - 7 = \dots\dots$

Bài 2. Thực hiện phép tính.

$$\begin{array}{r} 12 \\ - 4 \\ \hline \dots\dots \end{array}$$

$$\begin{array}{r} 15 \\ - 9 \\ \hline \dots\dots \end{array}$$

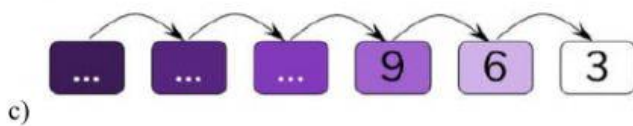
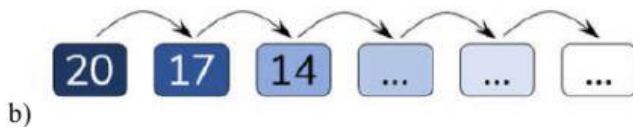
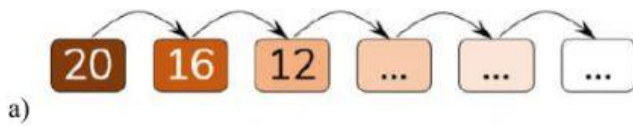
$$\begin{array}{r} 14 \\ - 8 \\ \hline \dots\dots \end{array}$$

$$\begin{array}{r} 11 \\ - 2 \\ \hline \dots\dots \end{array}$$

$$\begin{array}{r} 13 \\ - 7 \\ \hline \dots\dots \end{array}$$

$$\begin{array}{r} 13 \\ - 6 \\ \hline \dots\dots \end{array}$$

Bài 3. Điền 3 số thích hợp vào chỗ trống.



Bài 4. Đếm cách đều 4 đơn vị bắt đầu từ 0.

0, 4, 8, 12,,,,,,,,

$4 + 4 = \dots\dots$

$4 + 4 + 4 = \dots\dots$

$4 + 4 + 4 + 4 = \dots\dots$

$4 + 4 + 4 + 4 + 4 = \dots\dots$

$4 + 4 + 4 + 4 + 4 + 4 = \dots\dots$

$4 + 4 + 4 + 4 + 4 + 4 + 4 = \dots\dots$

$4 + 4 + 4 + 4 + 4 + 4 + 4 + 4 = \dots\dots$

$4 + 4 + 4 + 4 + 4 + 4 + 4 + 4 + 4 = \dots\dots$

$4 + 4 + 4 + 4 + 4 + 4 + 4 + 4 + 4 + 4 = \dots\dots$

$4 + 4 + 4 + 4 + 4 + 4 + 4 + 4 + 4 + 4 + 4 = \dots\dots$

$4 + 4 + 4 + 4 + 4 + 4 + 4 + 4 + 4 + 4 + 4 + 4 = \dots\dots$

Bài 5. Vườn nhà Hùng có 12 luống rau cải. Hùng cùng mẹ đi tưới nước cho những luống rau này. Mẹ đã tưới nước cho 8 luống rau và nhờ Hùng tưới cho những luống còn lại. Hỏi Hùng cần tưới nước cho mấy luống rau ?

.....
.....
.....