

Senin, 11 Oktober 2021

HELLO

LKPD KELAS 2 TEMA 3 SUBTEMA 3
PEMBELAJARAN 4

Nama Peserta Didik :

TARIKLAH GAMBAR UNTUK MENJAWAB PERTANYAAN YANG BENAR!

1. Pada gambar tersebut barang yang paling mahal adalah...

2

			
Roti Rp1.500,00	Wafer Rp1.000,00	Es cokelat Rp2.500,00	Air mineral Rp2.000,00



2. Barang yang paling murah pada gambar tersebut adalah...

2

			
Roti Rp1.500,00	Wafer Rp1.000,00	Es cokelat Rp2.500,00	Air mineral Rp2.000,00



3. Urutkanlah dari barang yang paling murah...





2

			
Roti Rp1.500,00	Wafer Rp1.000,00	Es cokelat Rp2.500,00	Air mineral Rp2.000,00



4. Urutkanlah dari barang yang paling mahal...

2

			
Roti Rp1.500,00	Wafer Rp1.000,00	Es cokelat Rp2.500,00	Air mineral Rp2.000,00

