



LKPD

LEMBAR KERJA PESERTA DIDIK

KELAS 3

TEMA 3
SUBTEMA 4
PEMBELAJARAN 5

KEAJAIBAN PERUBAHAN WUJUD
DISEKITARKU

NAMA :

NO. ABSEN :

KEGIATAN 1





Urutkan proses terjadinya hujan sesuai penjelasan yang kamu dengar dengan memindahkan gambar ke dalam kotak bernomor!

1

3

2

4



Setelah mengurutkan proses terjadinya hujan, jelaskan apa yang terjadi dari setiap nomornya. Tuliskan pada kolom berikut! Jangan lupa sesuaikan dengan nomornya ya?


1

3

2

4

Padukan kalimat dalam dari setiap kolom di atas menjadi satu paragraf. Urutkan sesuai nomornya ya anak-anak.






SOAL



Untuk mengukur kemampuan kalian, kerjakan soal berikut dengan benar!

1. Air di permukaan bumi mengalami penguapan karena panas matahari. Air yang mengalami penguapan berubah menjadi ...
 - a. awan
 - b. hujan
 - c. uap air
 - d. titik-titik air
 2. Dila membantu ibu menjemur pakaian . Setelah dijemur, pakaian yang semula basah menjadi kering. Peristiwa perubahan wujud yang terjadi sama dengan proses terjadinya hujan pada tahap
 - a. Angin meniup awan ke daratan
 - b. Air hujan mengalir ke permukaan tanah
 - c. Air laut menguap terkena panas matahari
 - d. Uap air membentuk titik-titik air
- 
- 