


RAGIONANDO

Sara nel portafoglio ha questi soldi



Quanti euro ha?

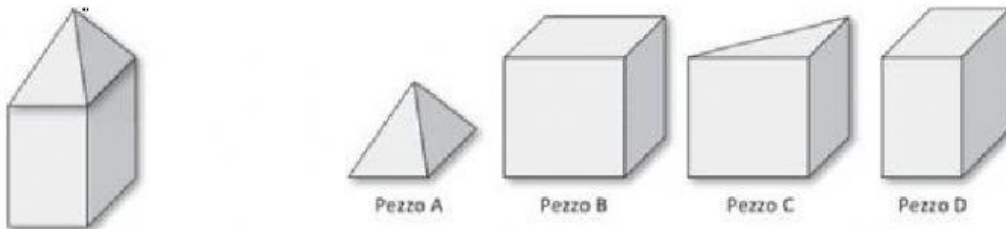
€ 421,00

€ 142,00

€ 124,00

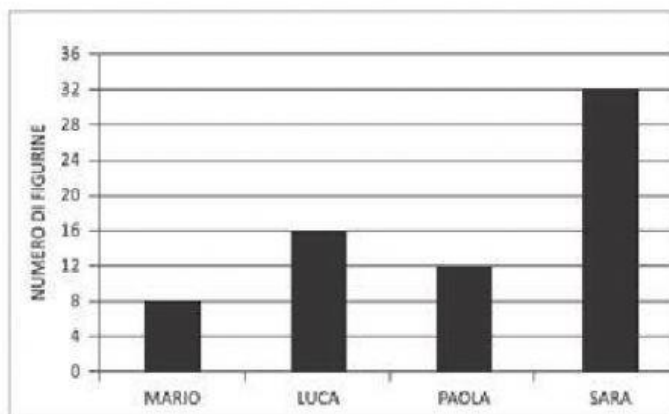
€ 114,00

Michele ha usato 2 pezzi delle sue costruzioni, per costruire questa casetta



Quali pezzi ha usato? Pezzo ____ e pezzo ____ (inseriscili in ordine)

Questo grafico rappresenta il numero di figurine che Mario, Luca, Paola e Sara hanno in tasca. Osserva il grafico e rispondi



Luca ha il doppio delle figurine di Mario?

Si

No

Non si può sapere

Luca ha solo una figurina in più di Paola?

Si

No

Non si può sapere

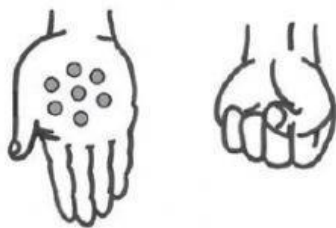
Sara ha più anni di Luca?

Si

No

Non si può sapere

Giorgio ha in tutto 15 biglie nelle due mani. Nella mano aperta ha 7 biglie.



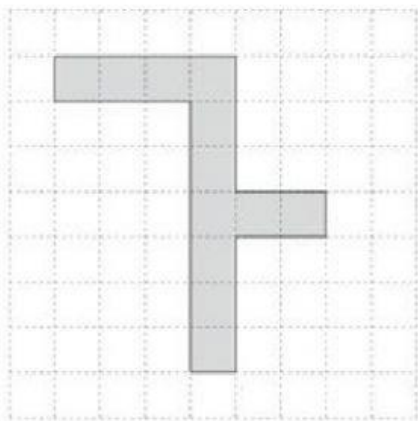
In quale mano ci sono più biglie?

Nella mano aperta

Nella mano chiusa

Non si può sapere

Un muratore deve comporre con delle piastrelle la decorazione di un pavimento come quella in figura.



Sceglie piastrelle come questa che non devono sovrapporsi:



Quante piastrelle intere deve usare il muratore?

Nella classe di Carla gli alunni hanno realizzato un'indagine sugli sport praticati. Osserva il grafico e rispondi



Quale sport è praticato da 5 alunni? _____

Il calcio è praticato da _____ alunni

Quale sport è praticato da 2 alunni? _____

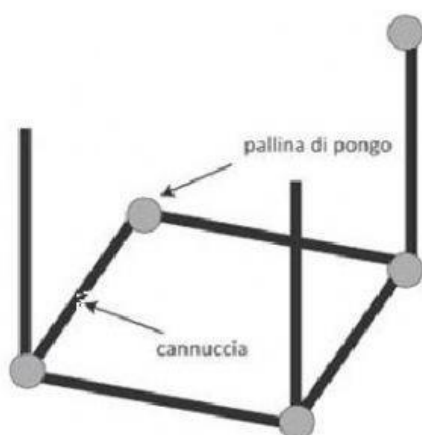
Quale sport è praticato da 12 alunni? _____

Lucia usa il righello per misurare la lunghezza della sua penna



Quanto misura la penna di Lucia? Misura ____ cm

Gaia ha iniziato a costruire un cubo con cannuce e palline di pongo



Per completare il cubo Gaia dovrà usare:

____ palline di pongo

____ cannuce

Il passo della formica vale 1 quadretto. La formica ha già fatto 3 passi



Quanti passi deve ancora fare la formica per arrivare alla bandierina?

Dovrà fare ____ passi

Il passo della rana, invece, vale 2 quadretti. La rana ha già fatto 2 dei suoi passi



Quanti passi deve ancora fare la rana per arrivare alla bandierina?

Dovrà fare ____ passi