

PESO LORDO- PESO NETTO –TARA



Leggi e scrivi l'operazione che ti permette di risolvere il problema, infine registra la risposta.

Una cassetta piena di pesche pesa 5,3kg.

La cassetta vuota pesa 0,8kg.

Qual è il peso netto?

La mamma compra un barattolo di marmellata ai mirtilli sul quale c'è scritto: "Peso netto 500g"

Il barattolo vuoto pesa 150g

Qual è il peso lordo?





Una bustina piena di zucchero pesa 7,8g.

Lo zucchero in essa contenuto pesa 6,4 g

Qual é la tara?

Un cestino del peso di 150g contiene mezzo chilo di fragole.
Qual è il peso lordo?

Presta attenzione alle unità di misura.

prodotti	tara	peso netto	peso lordo
	190 g	<input type="text"/>	5,7 hg
	250 g	2 kg	<input type="text"/>
	5 g	<input type="text"/>	130 g
	<input type="text"/>	400 g	6,7 hg