



E-LKPD

Elektronik LEMBAR KERJA PESERTA Didik

SDN KARANGWEDORO

Oleh : Isnaini Rohmawati, S.Pd

Untuk Kelas

IV

**Tema Peduli Terhadap Makhluk Hidup
Subtema Hewan dan Tumbuhan di Lingkungan Rumah
Pembelajaran 3**

www.kredx.com

LATIHAN SOAL

NAMA :

ABSEN :

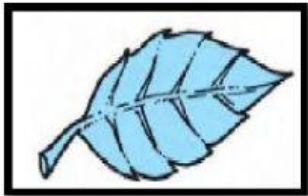
A. Menjodohkan dengan garis

Tariklah garis dari huruf A/B/C ke arah gambar atau kotak pasangannya


1. .



Menyirip



Melengkung



Sejajar



Menjari

2.



Akar Serabut



Akar Tunggang

B. Kotak Centang

3. Berilah tanda centang pada fungsi batang dibawah ini!



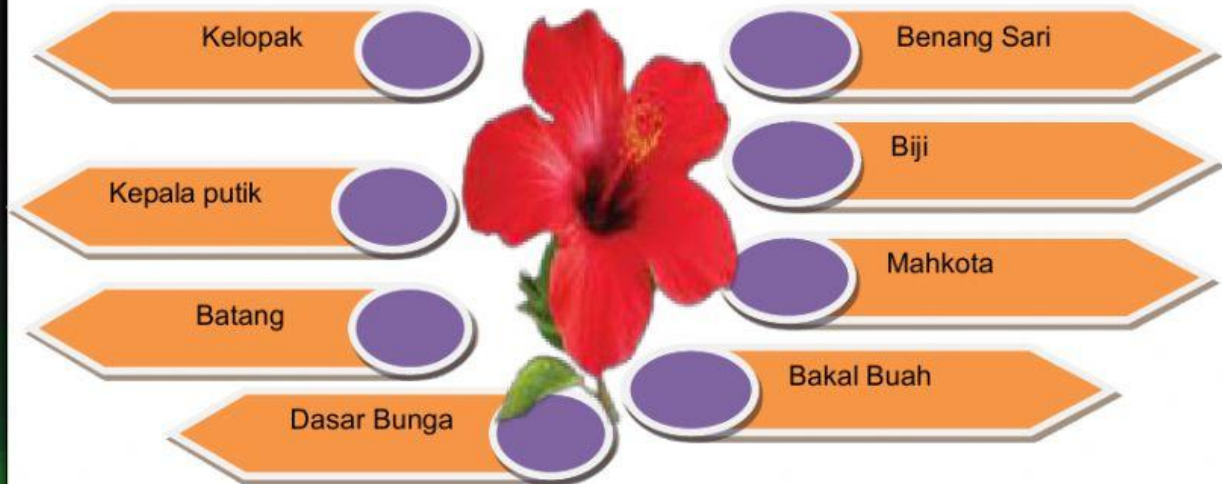
Tempat tumbuhnya bagian lain dari tumbuhan

Sebagai saluran tempat mengangkut air dan mineral dari akar menuju ke daun

Tempat menyimpan cadangan makanan

Alat perkembangbiakan pada tumbuhan

4. Berilah tanda centang pada bagian-bagian bunga dibawah ini!



B. Drag and Drop (Tarik dan Lepas)

5.

Bunga Sempurna

Bunga Tidak Sempurna

Bunga yang memiliki benang sari dan putik dalam bunga

Bunga yang hanya memiliki salah satu alat penyerbukan saja, benang sari atau putik.

D. Pilihan Ganda

Pilihlah a,b,c, atau d pada jawaban yang paling benar!

6. Bagian buah pada tumbuhan berfungsi untuk
 - a. menyerap air
 - b. mengangkut air
 - c. pelindung biji
 - d. tempat terjadinya penyerbukan
7. Gambar batang disamping merupakan batang
 - a. rumput
 - b. kering
 - c. basah
 - d. indah
8. Berikut bukan manfaat tumbuhan bagi manusia adalah
 - a. menyerap karbondioksida
 - b. membuat suasana menjadi asri
 - c. menghasilkan oksigen
 - d. merusak lingkungan
9. segala hal yang berada di sekitar kita, baik itu benda mati ataupun makhluk hidup yang terpengaruh oleh kegiatan yang dilakukan manusia adalah
 - a. benda hidup
 - b. makhluk hidup
 - c. lingkungan hidup
 - d. alam semesta
10. Tumbuhan memiliki klorofil atau zat hijau daun yang berfungsi sebagai media membuat makanan atau disebut proses
 - a. pernafasan
 - b. fotosintesis
 - c. penggunaan daun
 - d. pembuahan



“Selamat Mengerjakan”