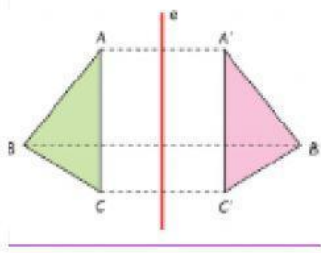


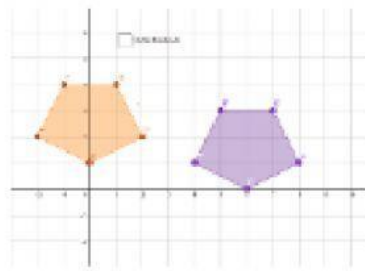
TICKET DE SALIDA 2: Traslación de figuras 2D

1.- ¿Cuál imagen representa una Traslación?

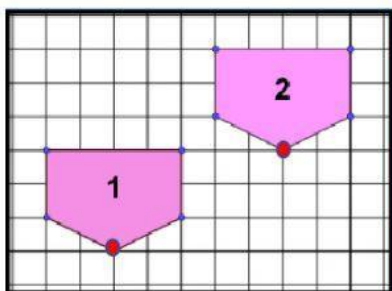
A)



B)



2.- ¿Cuánto se trasladó la figura 1 hasta la figura 2?



A

5 izquierda
y 4 abajo

B

4 derecha
y 3 arriba

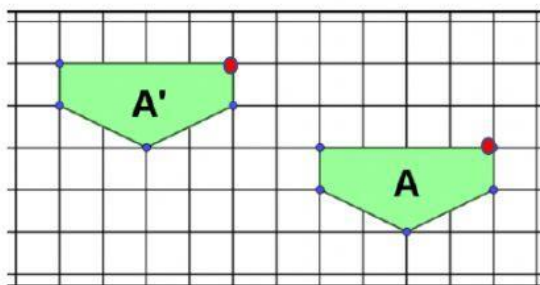
C

5 derecha
y 3 arriba

D

3 izquierda
y 5 abajo

3.- ¿Cuánto se trasladó la figura A hasta la figura A'?



A

6 derecha
y 2 arriba

B

6 izquierda
y 3 arriba

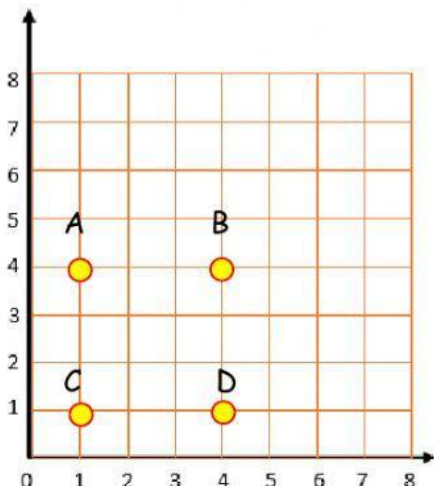
C

2 izquierda
y 6 arriba

D

6 izquierda
y 2 arriba

4.- Observa y responde:



Si trasladas cada punto 3 posiciones a la derecha y 2 posiciones hacia arriba, ¿Cuáles serán sus nuevas coordenadas?

Escríbelas aquí.

A' (,)
 B' (,)
 C' (,)
 D' (,)