

ULANG KAJI MATEMATIK

NAMA: _____

KELAS: _____

JAWAB SEMUA SOALAN BERIKUT.

1. Rajah menunjukkan bilangan cenderamata yang dijual sempena Hari Kanak-kanak.



53 139



27 461

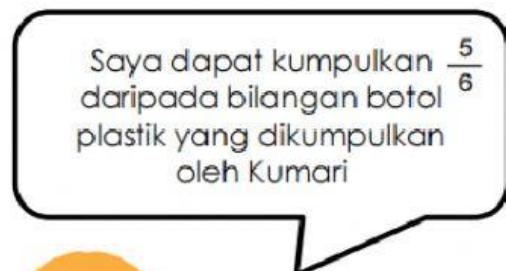


32 164

Hitung beza antara jualan paling banyak dengan jualan jualan yang paling sedikit.

$$\boxed{} - \boxed{} = \boxed{}$$

2. Berikut adalah perbualan dua orang murid sempena Minggu Cintai Alam Sekitar.



Kumari

Linda

Berdasarkan perbualan, hitung jumlah bilangan botol plastik yang dikumpulkan oleh mereka.


Karim =

Linda = $\frac{\square \square \square}{\square}$
=


Jumlah bilangan botol plastik mereka ialah

=

3. Rajah 6 menunjukkan bilangan anak ayam di dalam sangkar P dan sangkar Q.



P



Q

Rajah 6

- (i) Nyatakan nisbah bilangan anak ayam di sangkar P kepada bilangan anak ayam di sangkar Q.

[1 markah]

Jawapan =

- (ii) Hitung nisbah bilangan anak ayam di sangkar P kepada jumlah bilangan anak ayam di sangkar P dan Q.

[1 markah]

Jawapan =