


# LE FRAZIONI

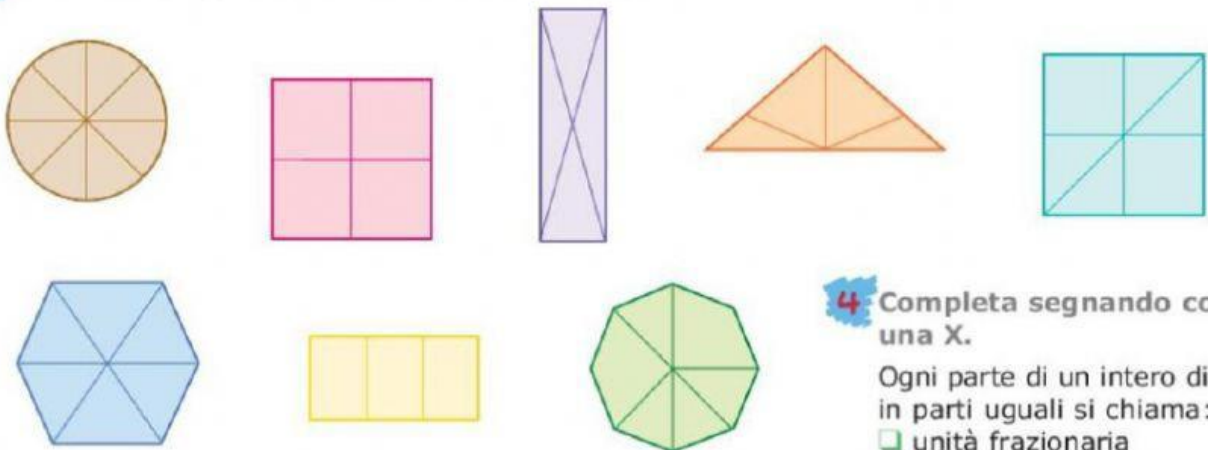
**1** Colora in rosso il quadratino degli oggetti divisi in parti uguali.



**2** Completa segnando con una X.

Frazionare vuol dire: ☐ dividere l'intero ☐ dividere l'intero in parti uguali

**3** Circonda le figure che sono state frazionate.



**4** Completa segnando con una X.

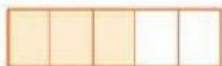
Ogni parte di un intero diviso in parti uguali si chiama:

- ☐ unità frazionaria
- ☐ parte di una frazione


**5** Osserva le figure e completa.



La figura è stata divisa in 3 parti uguali.  
Parti colorate n. 1, perciò è stato colorato  $\frac{1}{3}$  dell'intero.



La figura è stata divisa in 5 parti uguali.  
Parti colorate n. 3, perciò sono stati colorati i 3 dell'intero.



La figura è stata divisa in 8 parti uguali.  
Parti colorate n. 5, perciò sono stati colorati i 5 dell'intero.