




## LA FUNCIO DE RELACIÓ

1. Relaciona.





		

moviment

aparell locomotor

responsable




2. Completa.

El   és el    
 del   del  .

3. De què és responsable l'**aparell locomotor**?

El  és el  del  del

4. Relaciona.

sistema esquelètic

sistema muscular

aparell locomotor


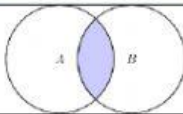
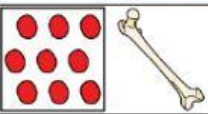


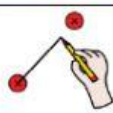

5. Completa.

El   està format per  
 el   i el  .

6. Quins **sistemes** formen l'**aparell locomotor**?

El  està format per el   
 i el .


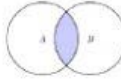


7. Relaciona.




<input type="text"/>	<input type="text"/>	<input type="text"/>	<input type="text"/>
			
<input type="text"/>	<input type="text"/>	<input type="text"/>	
			

**articulacions**    **ossos**    **tot els ossos**    **sistema esquelètic**

**cos**    **s'uneixen**    **conjunt**

8. Completa.

El   és el   de  
  del  .

Els     amb les  .

9. Què és el sistema esquelètic?

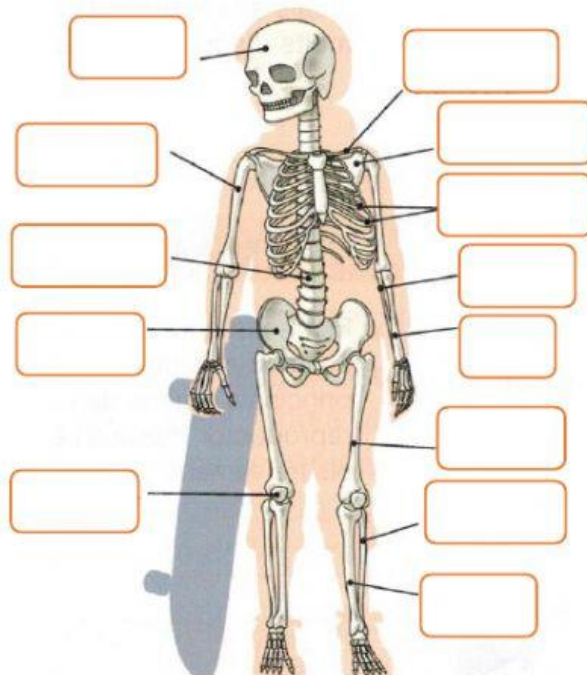
El  és el  de  del .

10. Con què s'uneixen els ossos de l'esquelet?

Els   amb les .

11. Relaciona.

- tíbia
- radi
- omòplat
- pelvis
- crani
- peroné
- costelles



- ròtula
- fèmur
- vèrtebra
- cúbit
- húmer
- clavícula

12. Relaciona.

<input type="text"/>	<input type="text"/>	<input type="text"/>

<input type="text"/>	<input type="text"/>	<input type="text"/>	<input type="text"/>

- ossos
- tendons
- músculs
- músculs
- sistema muscular

- s'uneixen
- format

13. Completa.

El  està  pels  .  
 Els  als  mitjançant  
 els  .

14. De què està format el sistema muscular?

El  està  pels  .

15. Amb què s'uneixen els músculs als ossos?

Els  als  mitjançant els  .

16. Relaciona.

- 
- 
- 
- 
- 
- 
- 
- 

