

LEMBAR KERJA PESERTA DIDIK

TEMA 7 SUBTEMA 1 PERKEMBANGAN TEKNOLOGI PRODUKSI PANGAN

NAMA :

A. Tariklah garis ke jawaban yang benar !

Kacang Kedelai

Jus mangga

Mangga

Yogurt

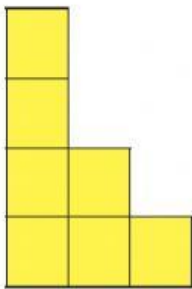
Daging

Tahu

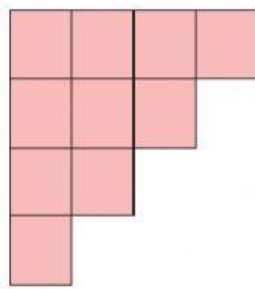
Susu

Sosis

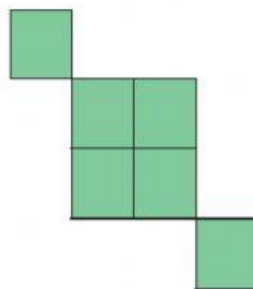
B. DROP DOWN



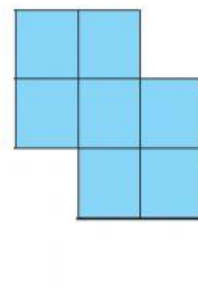
A



B



C



D

Luas bidang A adalah satuan

Luas bidang B adalah satuan

Luas bidang C adalah satuan

Luas bidang D adalah satuan

C. KOTAK CENTANG

Berikan Tanda centang pada jawaban yang benar !

sikap yang harus kita ambil dalam menghadapi perbedaan adalah

☐

Tidak mau bersatu

☐

Saling menghargai

☐

Saling melengkapi satu sama lain

☐

Memaksakan kehendak